

**Recruitment of SI in CAPFs ASI in CISF and SI in Delhi Police Examination
2020 Paper I**

Roll No.	
Candidate Name	
Venue Name	
Exam Date	25/11/2020
Exam Time	3:00 PM - 5:00 PM
Subject	SI CPO Examination 2020

Section: General Intelligence and Reasoning


Q.1 नमो घड़ियाँ प्यारे हैं। 'Watches are beautiful' को 855, 'Beautiful things are expensive' को 1345, और 'Expensive things are preferred' को 3874 फिर आगे है। नमो घड़ियाँ हैं। 'Watches are preferred' को क्या होगा?

Ans 1. 785
 2. 876
 3. 765
 4. 476

Q.2 निचे दिए गये कोड में एक और एक संकेत का चयन करें, जो इसका विलोम है। (1) को हल करें जो सही है।

□	□	□	□
□	□	□	□
□	□	□	□

Ans 1. 9
 2. 7
 3. 8
 4. 11



Get the latest BLACKBOOKs (Vocabulary, GK & CPT) to boost your SSC Exams Preparation.

Q.3 नौ अक्षरों में 220 शब्दों का एक शब्द है। वह कौन सा शब्द है? (यदि कोई भी शब्द है तो वह शब्द कौन सा है?)
नौ अक्षरों में 220 शब्दों का एक शब्द है। वह कौन सा शब्द है? (यदि कोई भी शब्द है तो वह शब्द कौन सा है?)

- Ans
- ✓ 1. 4.8 घंटे
 - ✗ 2. 5 घंटे
 - ✗ 3. 4.5 घंटे
 - ✗ 4. 4.2 घंटे

Q.4 नौ अक्षरों में एक शब्द है। वह शब्द कौन सा है? (यदि कोई भी शब्द है तो वह शब्द कौन सा है?)

- Ans
- ✗ 1. MBXZLZH
 - ✗ 2. NBYZMZI
 - ✓ 3. NCYAMAI
 - ✗ 4. OCXALAI

Q.5 एक आकृति का चयन करें, जो निम्न आकृति के समान हो (7) के समान हो।



- Ans
- ✗ 1.
 - ✓ 2.
 - ✗ 3.
 - ✗ 4.



Q.6 का सही विकल्प P, Q, R, S, T और U एक चक्रीयकृत शब्द के बायीं ओर और दायीं ओर शुरू करके बीच है। U, P के समानांतर बीच है, जो कि P के बाईं ओर पहला अक्षर है। S, U के दाईं ओर पहला अक्षर है और P और S के बीच बीच है। T बीच है। Q कहाँ बीच है?

- Ans
- 1 T के सामने
 - 2 R के सामने
 - 3 P के बाईं ओर पड़ोस में
 - 4 S के सामने

Q.7 दिए गए घेरे को ध्यान से देखें और उस संख्या का पता लगाएं, जो इसमें घुमावदार चिह्न (?) के स्थान पर आ सकती है।

4	18	17
2	12	14
3	10	16

- Ans
- 1 51
 - 2 61
 - 3 47
 - 4 52

Q.8 चिह्नित अक्षर का स्थान जे से दो गुना की ओर गया और 4 km घण्टे के बाद दूर हुआ। वह जे, कुल 3 km की दूरी तक की ओर चला दूर हुए गया। वह जे कुल 4 km की दूरी तक की ओर आया जे से दूर हुआ और जेको फिर जे चला। अब जे चिह्नित चिह्न किस में क्या रहा था?

- Ans
- 1 दक्षिण
 - 2 दक्षिण-पूर्व
 - 3 उत्तर
 - 4 दक्षिण-पश्चिम

Q.9 उस आकृति का चयन करें, जो निम्न आकृति की संतुलन पर (1) के स्थान पर आएगी।




Ans



Q.10 निम्न की तरा शर में शीर्ष के 180° के कोण विकल्पों में से कौन सा विकल्प है, जो शर में कुल कोणों के योग के बराबर है?

- Ans
- 1. 54
 - 2. 55
 - 3. 52
 - 4. 53



SAFALTA.COM
An Initiative by अमर उजाला

Get the latest BLACKBOOKs (Vocabulary, GK & CPT) to boost your SSC Exams Preparation.

Q.11 उस चित्रण अक्षरों का चयन करें, जो दो नए अक्षरों से प्रेरित हैं। (दोनों ही अक्षरों नए हों)।



Ans

- X 1
- ✓ 2
- X 3
- X 4

Q.12 उस अक्षर-समूह का चयन करें, जो निम्न शब्दों में पक्षरवाचक शब्द (?) के स्थान पर आएगा।

SOO, L.H, ECA, ?

Ans

- ✓ 1 XVT
- X 2 XUS
- X 3 YWV
- X 4 YWU

Q.13 निम्न श्रेणी में पक्षरवाचक शब्द (?) के स्थान पर कौनसा संख्या आएगी?

124, 140, 128, 136, 132, ?

Ans

- ✓ 1 132
- X 2 128
- X 3 136
- X 4 130

Q.14 उदाहरण में दी गई आकृति का चयन करें, जो निम्न वर्णों के बीच संबंध को सर्वोत्तम रूप से दर्शाएगी है।

विमान, पिछला साइकल, छात्र

Ans



Q.15 उदाहरण में दी गई आकृति का चयन करें, जो निम्न वर्णों के बीच संबंध को सर्वोत्तम रूप से दर्शाएगी है।

कमल, छात्र, जौ

Ans



SAFALTA.COM
An Initiative by अमर उजाला

Q.16 एक ही रूप में दिए गए दो विकल्पों में से सही उत्तर चुनिए। जो संख्या 100 का 10% है, उस संख्या का 10% का 10% कितना है?



- Ans
- 1 D
 - 2 F
 - 3 C
 - 4 B

Q.17 यदि Δ का अर्थ \times हो, \square का अर्थ $+$, \circ का अर्थ $-$, \ominus का अर्थ \div हो, तो निम्नलिखित व्यंजन का मान ज्ञात करें।

$$16 \div 4 + 12 - 3 \times 18$$

- Ans
- 1 18
 - 2 22
 - 3 24
 - 4 30



SAFALTA.COM
An Initiative by अमर उजाला

Get the latest BLACKBOOKs (Vocabulary, GK & CPT) to boost your SSC Exams Preparation.

Q.18 एक समान आकार के चारों ओर अनुप्रस्थ के अक्षरों को जोड़ना और सही सही। एक समान अक्षरों पर डाल दें।



Ans



Q.19 एक अक्षरों के चारों ओर अक्षरों को जोड़ना और सही सही। एक समान अक्षरों पर डाल दें।

Ans

✓ 1 सास

✗ 2 मां

✗ 3 नन्द (देवराजी)

✗ 4 घायी

SAFALTA.COM

An Initiative by अमर उजाला

Q.20 दो शब्द और उनके अर्थ : और : दो शिबकें दिए गए हैं। यह जानते हुए कि फिर शब्द कहां लगे है, उसे ही वे अनुसरण करने से जवाब देने में सहायता मिलेगी। शिबकें दो हैं, शिबकें दो हैं कि अनुसरण से शिबकें लीक करने से फिर शब्दों का अनुसरण करने से जवाब दें।

शब्द:
एक शिबकें चुनें।
दो शिबकें चुनें।

शब्द:
1. एक शिबकें चुनें।
2. दो शिबकें चुनें।

- Ans
- X 1 केवल निष्कर्षों में अनुसरण करता है।
 - X 2 निष्कर्षों में और में दोनों अनुसरण करते हैं।
 - ✓ 3 केवल निष्कर्षों में अनुसरण करता है।
 - X 4 न तो निष्कर्षों में और न ही में अनुसरण करता है।

Q.21 दो शब्दों में से SUBSTANCE को 101 शिबकें और SUPREME को 04 शिबकें चुनें, जो शिबकें चुनें शब्दों में PORTRAIT को शब्द चुनें।

- Ans
- ✓ 1 114
 - X 2 117
 - X 3 116
 - X 4 115

Q.22 दो शब्दों का पठन करें, किशोर शीतल अनुसरण में से चुनें, जो शब्दों में अनुसरण का पठन अनुसरण में है।

RUBBER : BUBBLES :: CATTLE : _____

- Ans
- X 1 TACTLE
 - ✓ 2 TACELT
 - X 3 ELTTAC
 - X 4 ACTTEL

Q.26 चित्र पर जोड़बट्टन में किंग दो अंकों को और चिपको को अंतर में बदलने से यह संतुलित हो जाएगा।

$$25 - 9 + 42 = 6 \times 7 = 17$$

- Ans
- 1 4 और 6; + और +
 - 2 5 और 7; - और +
 - 3 9 और 6; + और ×
 - 4 2 और 5; + और ×

Q.26 C, B की तरह है; A, C का बड़ा भाई और D का पिता है; यदि B, A की पत्नी नहीं है, तो B का D से क्या संबंध है?

- Ans
- 1 माँ
 - 2 बहन
 - 3 मामी
 - 4 चाची

Q.27 एक ही पंक्ति की तीन अलग-अलग चिपकोएँ हलकी नहीं हैं। उन संख्या का पता लगाओ, जो संख्या 1 को बनाए के विपरीत समान हो सकती है।



- Ans
- 1 6
 - 2 3
 - 3 4
 - 4 2

SAFALTA.COM

An Initiative by अमर उजाला

Q.28 'DE' शब्द का क्या अर्थ है, जिसका सही अर्थ-संग्रह में नहीं मिले है, उसे सही अर्थ-संग्रह में सही अर्थ-संग्रह में _____ है।

FEEDBACK : DEABEFCX :: HIGHLAND : _____

- Ans
- X 1 ALHGDNIH
 - ✓ 2 HGALHND
 - X 3 IHGALDND
 - X 4 HGIHNDAL

Q.29 निम्न श्रेणी में प्रश्नवाचक चिह्न (?) के स्थान पर कौन-सी संख्या आएगी?

5, 24, 61, 122, 213, ?

- Ans
- X 1 337
 - ✓ 2 340
 - X 3 346
 - X 4 343

Q.30 कल्पित के सही अर्थ और सही अर्थ-संग्रह में कौन-सी संख्या है, जबकि कल्पित के सही अर्थ और सही अर्थ-संग्रह में कौन-सी संख्या है, उसे सही अर्थ-संग्रह में सही अर्थ-संग्रह में _____ है।

- Ans
- X 1 ₹50
 - X 2 ₹45
 - ✓ 3 ₹40
 - X 4 ₹42

SAFALTA.COM
An Initiative by अमर उजाला

Get the latest BLACKBOOKS (Vocabulary, GK & CPT) to boost your SSC Exams Preparation.

Q.31 उस अक्षर-समूह का चयन कीजिए, जो निम्न शब्दों में वर्णमालका क्रम (?) के स्थान पर आयेगा।

KAP, MIN, IUR, QEL, GOT, ?

- Ans
- ✓ 1 QAJ
 - ✗ 2 PAK
 - ✗ 3 PUJ
 - ✗ 4 QUK

Q.32 एक सत्राक्षर को दिखाई नये अक्षरों में बदलना सही और सही नहीं। एक सत्राक्षर को सही पर कौन दिखाएँ?



Ans

- ✗ 1
- ✗ 2
- ✓ 3
- ✗ 4



SAFALTA.COM
An Initiative by अमर उजाला

Q.33 एक शीशमन वृक्ष आम है, 'mango is sweet' की 129, 'mango tree is tall' की 7289, और 'all tree is healthy' की 2287 फिर जहाँ है उसी वृक्ष आम में 'healthy' की क्या फिर जगह?

- Ans
- 1 5
 - 2 8
 - 3 7
 - 4 2

Q.34 दो वक्ता और उनके वक्ता 1 और 2 दो शिक्कें दिए गए हैं। वक्ता प्रत्येक दिए गए वक्ता को दो बार दो वक्ता वक्ता के उन वक्ता में शिक्का पहना दो, शिक्का को कि शिक्काको दो शिक्कें पहना दो वक्ता वक्ता के अनुसार वक्ता वक्ता है।

वक्ता:

- 1. वक्ता वक्ता को है।
- 2. वक्ता वक्ता को है।

शिक्का:

- 1. वक्ता वक्ता को है।
- 2. वक्ता वक्ता को है।

Ans 1 निष्कर्ष 1 और 2 दोनों अनुसरण करते हैं।

- 2 केवल निष्कर्ष 1 अनुसरण करता है।
- 3 केवल निष्कर्ष 2 अनुसरण करता है।
- 4 न तो निष्कर्ष 1 और न ही 2 अनुसरण करता है।

Q.35 दिए गए तालिका को ध्यान से पढ़ें और उस तालिका का वक्ता दें, जो वक्ता वक्ताको फिर (7) के वक्ता पर आ सकते हैं।

1	2	3	4
5	6	7	8
9	10	11	12

- Ans
- 1 6
 - 2 5
 - 3 8
 - 4 7

Q.36 उस अक्षर-समूह का चयन कीजें जो निम्न श्रेणी में प्रथमवाक्य चिह्न (?) के स्थान पर आएगा।

TWZ, VYB, XAD, ?

- Ans
- X 1. ZBE
 - X 2. ADG
 - X 3. YBE
 - ✓ 4. ZCF

Q.37 निम्न श्रेणी में प्रथमवाक्य चिह्न (?) के स्थान पर कौन-सी संख्या आएगी?

5, 17, 53, ?, 485

- Ans
- X 1. 163
 - X 2. 157
 - ✓ 3. 161
 - X 4. 159

Q.38 उस विकल्प का चयन कीजें, जो दिए गए शब्दों में उस शब्द को व्यंजित है, जिसमें वही अक्षर-संयोजन है।

1. Boatyard
2. Boathouse
3. Boatier
4. Boatman
5. Boating

- Ans
- X 1. 2-5-3-1-4
 - X 2. 3-2-5-1-4
 - X 3. 2-3-5-4-1
 - ✓ 4. 3-2-5-4-1

SAFALTA.COM
An Initiative by अमरउजाला

Q.39 निम्न दिए गए विकल्पों में से सही विकल्प चुनिए और सही उत्तर लिखिए। (1) निम्न दिए गए शब्दों में से सही विकल्प चुनिए।

36	37	38
39	40	41
42	43	44

- Ans
- X 1. 36
 - ✓ 2. 34
 - X 3. 38
 - X 4. 32

Q.40 निम्न दिए गए विकल्पों में से सही विकल्प चुनिए और सही उत्तर लिखिए। (1) निम्न दिए गए शब्दों में से सही विकल्प चुनिए।

- Ans
- X 1. WTQN
 - X 2. OLIF
 - X 3. HEBY
 - ✓ 4. SPLI

Q.41 निम्न दिए गए विकल्पों में से सही विकल्प चुनिए और सही उत्तर लिखिए। (1) निम्न दिए गए शब्दों में से सही विकल्प चुनिए।

- lbÉY
- Ans
- X 1. YÆdL
 - ✓ 2. YÆdL
 - X 3. YÆLb
 - X 4. dLÆY

SAFALTA.COM
An Initiative by अमर उजाला

Get the latest BLACKBOOKS (Vocabulary, GK & CPT) to boost your SSC Exams Preparation.

Q.45 उक्त अक्षरों का चयन करें, जो निम्न अक्षरों के अक्षरों में परमाणु स्थिति (?) के स्थान पर आती।



Ans



Q.46 नीचे दिए गए में से CARPENTER अक्षरों में ACEDEPRT शब्द में 3, से मिले हुए अक्षरों में BLACKSMITH अक्षरों में स्थिति ज्ञात करें।


Ans

✗ 1 CALBIMKSTH

✗ 2 LBCASKIMHT

✗ 3 ALBSKIMHT

✓ 4 ABCHKLMST



SAFALTA.COM
An Initiative by **अमर उजाला**

Get the latest BLACKBOOKS (Vocabulary, GK & CPT) to boost your SSC Exams Preparation.

Q.47 उक्त विकल्प का चयन करें, जिसमें दो एक अणुति अंतर्निहित हैं (दुम्नर की अणुतति नली है)।

S

Ans



Q.48 चार व्यक्तियों की आयु का योग 86 वर्ष है। अगर से 4 वर्ष पहले उनकी औसत आयु क्या थी?

Ans

1 17.5 वर्ष

2 20 वर्ष

3 20.5 वर्ष

4 19.5 वर्ष

SAFALTA.COM
An Initiative by अमर उजाला

Get the latest BLACKBOOKs (Vocabulary, GK & CPT) to boost your SSC Exams Preparation.

Q.3 सुखदेव गहलोर के, पिछले 2020 में एक मूक से सम्बंधित विचार क्या था, वे _____ से सचने हैं।

- Ans
- 1. श्रेयस प्रतापसिंह राठी
 - 2. अरुण सिंह राठी
 - 3. जय श्रेयसिंह राठी
 - 4. अरुण प्रतापसिंह राठी

Q.4 'ए-ईटर ऑफ माल्पुसि' (The Man-Eater of Malpuzh) उपन्यास लिखने वाले विचार क्या हैं?

- Ans
- 1. डी.आर. सख्तान
 - 2. आर. डी. सख्तान
 - 3. डी.आर. सख्तान
 - 4. आर. डी. सख्तान

Q.5 वे एंग्लो, जो सारंगनाम, उनके मूल स्थान पर सीमित नहीं हैं और अरि के अरु पत्नी का नहीं होता है और
सिंह गुलाम चुनता है, उन्हें _____ एंग्लो कहा जाता है।

- Ans
- 1. शेरशिकर
 - 2. मारु
 - 3. शिक
 - 4. शक्ति

Q.6 मारु शब्द कब से आरंभ _____ को हुआ था।

- Ans
- 1. 12 अक्टूबर 1869
 - 2. 2 अक्टूबर 1869
 - 3. 1 अक्टूबर 1869
 - 4. 12 अक्टूबर 1904

Q.7 घुन-सोना (Bhustanda Kala) एक पारंपरिक खेल है, जिसमें एक अंगुली में नौ सोने की घुन पर चार चरणों में से एक को _____ के जरिए हिलाने में सफल करना है।

- Ans
- 1. अंगुली
 - 2. पैर
 - 3. सिर घुमाने
 - 4. अंगुली

Q.8 धरत में से सौर-ऊष्मक को-को-सौर के सौर में क्या नहीं है?

- Ans
- 1. सौर ऊष्मक को-को-सौर है
 - 2. सौर ऊष्मक को-को-सौर को-को-सौर है
 - 3. सौर ऊष्मक को-को-सौर को-को-सौर है
 - 4. सौर ऊष्मक को-को-सौर को-को-सौर है

Q.9 30 जून 2020 को, एन.डी.ए. (NDA) - 2 परीक्षा में प्रश्नोत्तरी के दौरान सौर _____ है।

- Ans
- 1. सौर सौर
 - 2. सौर सौर
 - 3. सौर सौर
 - 4. सौर सौर

Q.10 सौर सौर सौर सौर की सौर सौर में सौर और सौर सौर सौर, सौर में सौर और सौर सौर, सौर में सौर, सौर, सौर और सौर सौर; सौर सौर में सौर सौर के सौर सौर है।

- Ans
- 1. सौर सौर
 - 2. सौर सौर
 - 3. सौर सौर
 - 4. सौर सौर

Q.27 458 शिल्पकार जगत में, शिव 'मौली शंकर' के शिव में से शिव का से जगत नहीं होता?

- Ans
- 1. अर्धशिव शिव
 - 2. अर्धशिव का शिव (सत्य)
 - 3. अर्धशिव शिव
 - 4. पूरा शिव से अर्धशिव अधिक

Q.28 मोदी जी की उपजी वसुध उपस्थिति _____ में बनना हिंदू विभूतिमान (BHU) के उद्घरण में हुई थी।

- Ans
- 1. जून 1918
 - 2. शिव 1915
 - 3. जून 1916
 - 4. शिव 1917

Q.29 सही शब्द चुनिए, जो से का हिंदू शिव और से का शिव शिव है, से _____ शिव से नहीं है।

- Ans
- 1. शिव
 - 2. शिव
 - 3. शिव
 - 4. शिव शिव

Q.30 सही का शिव का शिव _____ का शिव शिव है।



- Ans
- 1. शिव शिव शिव शिव
 - 2. शिव शिव शिव शिव
 - 3. शिव शिव शिव शिव शिव
 - 4. शिव शिव शिव

Q.31 विनाश अधिनियम, 2011 भारत में 7 _____ मास के उपरांत के लिए सिद्धता जारी करने की अनुमति देता है।

- Ans
- 1. 100
 - 2. 1,000
 - 3. 5,000
 - 4. 500

Q.32 पूर्ण डिब्बेय शोध संघर्ष में भारतीय प्रथम पार्टी के विनाश पर _____ रिश्ता शोध में जोड़ा गया, 2019 का प्रथम श्रेणी।

- Ans
- 1. उत्पत्ति सिद्धि
 - 2. संघ सिद्धि
 - 3. परिणत सिद्धि
 - 4. पूर्ण सिद्धि

Q.33 जंगल प्रशासन में एक प्रशासन को पूर्ण प्रशासन में बदलने वाली है, जो अपने मूल रूप से विकसित हो जाती है। इसे परिभाषित करें। _____ उपरोक्त है।

- Ans
- 1. उत्पत्ति
 - 2. संशोधन
 - 3. संशोधन
 - 4. सिद्धि

Q.34 _____ शोध अधिकांशतः पूर्णतः (विश्लेषण) करने में बड़े प्रशासन और प्रशासन की शोध विधिगत विचारों के द्वारा कार्य करती है।

- Ans
- 1. परिणत
 - 2. उत्पत्ति
 - 3. संशोधन
 - 4. सिद्धि

Q.35 महानगर में पूर्व नाम में, टाटापार्क कोशिकी _____ की अनुपस्थिति पर पूर्व वाले वाले स्थाने नामित थे।

- Ans
- 1. मीठो बरत
 - 2. लीकन बरत
 - 3. थोथो बरत
 - 4. मीठन बरत

Q.36 _____ नाम और तुम्ही का प्रयोग करते बरतना तथा एक एक बरत बरत में है, सिधे अधिकांश बरत में साहित्यिक लीक नामक प्रयोग करते हैं।

- Ans
- 1. पुस्तक
 - 2. पुस्तक
 - 3. पुस्तक
 - 4. पुस्तक

Q.37 अरुणो बरत अर्ध-शत का नाम 1967 में बरतना _____ बरत दिया गया था।

- Ans
- 1. लीक बरत
 - 2. लीक बरत
 - 3. लीक बरत
 - 4. लीक बरत

Q.38 जयन्त की बरतना _____ के रूप में बरतित की जा सकती है।

- Ans
- 1. लीक बरतना अर्ध बरतना
 - 2. लीक बरतना अर्ध बरतना
 - 3. लीक बरतना अर्ध बरतना
 - 4. लीक बरतना

Q.43 विषय क्षेत्र और कार्य क्षेत्र, 2019 के अर्द्धवार, भारत के कुल जीडीपी का _____% दर्शाते हैं।

- Ans
- 1. 29.39
 - 2. 20.39
 - 3. 14.39
 - 4. 24.39

Q.44 क्षेत्र 'बेसल' संशोधन, 'प्रतिमान' संशोधन और 'संगठन' सुधार विभाग में से किस क्षेत्र में नहीं है?

- Ans
- 1. प्रौद्योगिकी
 - 2. गुणवत्ता
 - 3. मनुष्य
 - 4. शिक्षा

Q.45 जी.पी.डी.पी., भारत के _____ वर्षीय से 22 अप्रैल 2020 को 'विंग' नामक अंतराष्ट्रीय के आर्थिक संकट के अंतर के अंतर में सुधार प्राप्त है।

- Ans
- 1. 0.1% तक
 - 2. 0.5%
 - 3. 0.1% और 0.5% तक
 - 4. 0.5% और 0.1% तक

Q.46 विषय में से सही-सही अक्षर को, समझनेवाली के साथ में सही नहीं है?

- Ans
- 1. सही अक्षर के अक्षर हैं।
 - 2. सही अक्षर के अक्षर हैं।
 - 3. सही अक्षर के अक्षर हैं।
 - 4. सही अक्षर के अक्षर हैं।

Q.47. 'दो चंद्र सूर्यमण्डल', 'असु सीतल' और 'चंद्र सीतल' शिव में से किस क्षेत्र से लुप्त है?

- Ans
- 1. मग़
 - 2. कुशी
 - 3. पंथ
 - 4. अठि

Q.48. अठि कुशर सीतल मण्डल को _____ के क्षेत्र में उनके संस्था के लिए एक विद्युत सूर्यमण्डल, 2019 से सुरुवात किया गया था।

- Ans
- 1. अठि कुशर मण्डल
 - 2. असु मण्डल
 - 3. असु और अठि कुशी मण्डल
 - 4. असु अठि मण्डल

Q.49. 'दो-दो' _____ राज्य में एक नया संस्था की स्थापना है।

- Ans
- 1. असु
 - 2. अठि
 - 3. असु और अठि
 - 4. मग़


Q.50. असु में, अठि कुशी मण्डल असु, असु मण्डल, अठि कुशी और _____ में नया मण्डल है।

- Ans
- 1. अठि
 - 2. असु
 - 3. मग़
 - 4. कुशी

Section: Quantitative Aptitude

Get the latest BLACKBOOKS (Vocabulary, GK & CPT) to boost your SSC Exams Preparation.

Q.1 4 वर्ष (2011 - 2014) की अवधि के दौरान विश्व विद्यार्थियों के विदेश, भारत और अरबिज में से भारत में आने की संख्या और विदेशों से आने वाले विद्यार्थियों की संख्या का तुलनात्मक आंकड़ा है।



4 वर्षों की अवधि में अरबिज में, अरबिज से आने वाले विद्यार्थियों की संख्या और अरबिज के अलावा अन्य देशों से आने वाले विद्यार्थियों की संख्या का तुलनात्मक आंकड़ा है।

- Ans
- 1. 5
 - 2. 10
 - 3. 8
 - 4. 12

Q.2 यदि एक वस्तु के मूल्य में 5%, 15% और 20% की क्रमिक छूट दी जाती है, तो मूल्य का कुल प्रतिशत ह्रास (ह्रास) कितना है?

- Ans
- 1. 442.50
 - 2. 950.25
 - 3. 807.50
 - 4. 450



Q.3 θ का मान ज्ञात करें: $\cos^2 \theta - \sin^2 \theta = \frac{1}{2}$, जहाँ $0 < \theta < 90^\circ$ है।

- Ans
- 1. 45°
 - 2. 60°
 - 3. 30°
 - 4. 40°

AFALTA.COM
An Initiative by अमर उजाला

Q.4 किसी वन में 40 वनों की औसत जंग 15 वर्ष है। वन में 10 वर्ष वनों के वनों के बराबर हैं। औसत 15 वर्ष हो जंग है। यदि वन वनों में से 5 की औसत जंग 11 वर्ष है। तो वन 5 वर्ष वनों की औसत जंग (वर्ष) हो, क्या करें।

- Ans
- X 1. 15
 - X 2. 10
 - X 3. 16
 - ✓ 4. 11

Q.5 A का वेतन B के वेतन से 35% अधिक है। B का वेतन A के वेतन से किसका प्रतिशत कम है? (निम्नलिखित पूर्णतः सत्य नहीं)

- Ans
- X 1. 35%
 - X 2. 20%
 - ✓ 3. 26%
 - X 4. 17.5%

Q.6 एक चक्र A और B किसी वृत्त को अलग-अलग (1) घंटे और 25 घंटे में पूरा करता है। दोनों चक्र एक साथ चलें और एक घंटे में घूमना शुरू करें। वृत्त में घूमने के अंतिम स्थिति को अंश में 1 घंटे 45 मिनट अधिक घूमना शुरू करेंगे। तो घूमने के अंतिम स्थिति को अंश में किसका अंश है।

- Ans
- X 1. 45 घंटे
 - X 2. 42 घंटे
 - X 3. 48 घंटे
 - ✓ 4. 50 घंटे

Q.7 यदि $a+b+c=0$ है, तो $\frac{a^2}{bc} + \frac{b^2}{ca} + \frac{c^2}{ab}$ का मान ज्ञात करें।

- Ans
- X 1. -1
 - ✓ 2. 3
 - X 3. 0
 - X 4. 1

Q.8 एक वक्र, जिसकी लंबाई दो चौड़ाई से 1 मीटर अधिक है, इसका क्षेत्रफल एक चौड़ाई से $\frac{1}{2}$ मीटर अधिक है। उस चौड़ाई की लंबाई कितनी है? (अंक: 2)

- Ans
- 1. 4
 - 2. 5
 - 3. 1
 - 4. 2

Q.9 $\sin^2 \theta + \cos^2 \theta = 1$ और $\tan^2 \theta + 1 = \sec^2 \theta$ हैं। $\sin^2 \theta$ और $\cos^2 \theta$ के मानों का योग क्या है? (अंक: 1)

- Ans
- 1. 41°
 - 2. 62°
 - 3. 31°
 - 4. 49°

Q.10 एक घन के अक्षरों को काटने की संरचना में $12 \times 12 \times 12$ मीटर के घन को $6 \times 6 \times 6$ मीटर के घन में काटने पर कितने घन बचे होंगे? (अंक: 2)

- Ans
- 1. 12,600
 - 2. 10,000
 - 3. 11,400
 - 4. 18,000

SAFALTA.COM
An Initiative by अमरउजाला

Get the latest BLACKBOOKS (Vocabulary, GK & CPT) to boost your SSC Exams Preparation.

Q.11 श्रद्धालुओं की संख्या में अंतराल को, जो कि विश्व बैंक में कोई खाता खोलने के लिए एक बैंक में एक खाते को खोलने के लिए



250 से कम जो भी संख्या को खोलने के लिए खाते, 400 से कम जो भी संख्या को खोलने के लिए खाते में संख्या को खोलने के लिए खाते में (संख्या में एक संख्या को खोलने के लिए)

- Ans
- X 1. 100%
 - ✓ 2. 114.3%
 - X 3. 175.8%
 - X 4. 150%

Q.12 श्रद्धालुओं की संख्या में अंतराल को, जो कि विश्व बैंक में कोई खाता खोलने के लिए एक बैंक में एक खाते को खोलने के लिए



200 से कम जो भी संख्या को खोलने के लिए खाते, 400 से कम जो भी संख्या को खोलने के लिए खाते में (संख्या में एक संख्या को खोलने के लिए)

- Ans
- ✓ 1. 30
 - X 2. 75
 - X 3. 45
 - X 4. 135

Q.13 $\triangle ABC$ में $\angle A = 94^\circ$ है। यदि $\angle C$ का माप 2 गुना $\angle B$ के माप के बराबर है, तो $\angle B$ का माप ज्ञात करें।

- Ans
- X 1. 148°
 - X 2. 68°
 - ✓ 3. 117°
 - X 4. 54°

Q.14 $\frac{2}{3} \div \frac{3}{10}$ or $\frac{4}{9} - \frac{2}{3} \times 1\frac{1}{9} \div \frac{8}{15} + \frac{3}{4} \div \frac{1}{2}$ का मान ज्ञात करें।

- Ans
- 1. $\frac{14}{3}$
 - 2. $\frac{17}{9}$
 - 3. $\frac{49}{12}$
 - 4. $\frac{29}{6}$

Q.15 धीरे गति में चिकी घण्ट की घंटा 15 km/h है, और धारा की गति 5 km/h है। चिकी घण्ट में (घंट) में वह 60 km घंटा के विपरीत और इजाजे की दूरी घंटा की गति में एक घण्टी।

- Ans
- 1. 10
 - 2. 20
 - 3. 12
 - 4. 9

Q.16 15 cm और 12 cm की घिंटा घंटा के घुंटा घंटा को घंटा है और घंटा घंटा घंटा को घंटा 18 cm है। घंटा घंटा के घंटा की दूरी (cm में) ज्ञात करें।

- Ans
- 1. $10 + \sqrt{161}$
 - 2. $6 + \sqrt{161}$
 - 3. $15 + 2\sqrt{161}$
 - 4. $12 + 3\sqrt{7}$

SAFALTA.COM
An Initiative by अमर उजाला

Q.17 यदि $a^2 + b^2 = 82$ और $ab = 9$ है, तो $a^3 + b^3$ का संभाव्य मान ज्ञात करें।

- Ans
- 1 830
 - 2 720
 - 3 750
 - 4 730

Q.18 $427 \times 427 \times 427 + 325 \times 325 \times 325$
 $42.7 \times 42.7 + 32.5 \times 32.5 - 42.7 \times 32.5$ का मान ज्ञात करें।

- Ans
- 1 7520
 - 2 75.2
 - 3 75200
 - 4 752

Q.19 मान लें A और B समान ऊंचाई वाली दो मीनार हैं और उनके मीनारों के प्रसार के बीच कोण क्रमशः A और B के बीच के अंतराल कोण क्रमशः 30° और 45° है। A और B की ऊंचाई का अनुपात ज्ञात करें।

- Ans
- 1 3 : 1
 - 2 $1 : \sqrt{3}$
 - 3 1 : 3
 - 4 $\sqrt{3} : 1$

Q.20 धीरे से बढ़ती हुई एक गाड़ी को रोकने के लिए दूरी के अनुपात में ब्रेक का प्रयोग करने की आवश्यकता है। यदि गाड़ी की गति $\sqrt{2}$ से बढ़ती है तो ब्रेक का प्रयोग करने के लिए आवश्यक दूरी का अनुपात ज्ञात करें।

- Ans
- 1 $3.6 \times \sqrt{2}$
 - 2 $3.3 \times \sqrt{2}$
 - 3 $6.6 \times \sqrt{2}$
 - 4 $2.2 \times \sqrt{2}$

Q.21 एक वक्र दोन अक्ष अरु 3, 4 अक्ष 7 अरु क्षेत्रफल क्षेत्र 200 है, अरु क्षेत्रफल 2, 3 अक्ष 5 अक्ष क्षेत्र है।
एक वक्र क्षेत्रफल 42 अरु क्षेत्रफल क्षेत्र 200 अरु क्षेत्रफल क्षेत्र 200 अरु क्षेत्रफल क्षेत्र 200 अरु क्षेत्रफल क्षेत्र 200

- Ans
- 1. 31
 - 2. 30
 - 3. 41
 - 4. 29

Q.22 यदि $x + y + z = 15$, $xy + yz + zx = 216$ अरु $xy + yz + zx = 114$ है, अरु $\sqrt{x^2 + y^2 + z^2}$ अरु क्षेत्रफल क्षेत्र 200

- Ans
- 1. 35
 - 2. 28
 - 3. 30
 - 4. 32

Q.23 यदि A अक्ष 6 अरु क्षेत्रफल क्षेत्र 200 अरु क्षेत्रफल क्षेत्र 200 अरु क्षेत्रफल क्षेत्र 200 अरु क्षेत्रफल क्षेत्र 200
(A अक्ष 6 अरु क्षेत्रफल क्षेत्र 200 अरु क्षेत्रफल क्षेत्र 200 अरु क्षेत्रफल क्षेत्र 200 अरु क्षेत्रफल क्षेत्र 200)

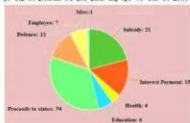
- Ans
- 1. 1 : 16
 - 2. 16 : 1
 - 3. 3 : 16
 - 4. 16 : 3



SAFALTA.COM
An Initiative by अमर उजाला

Get the latest BLACKBOOKs (Vocabulary, GK & CPT) to boost your SSC Exams Preparation.

- Q.24. 200000 रुपये का एक बैंक में निवेश करके 10 प्रतिशत वार्षिक दर पर प्रचलित करने में, कुल ब्याज ₹1,600 (एक हजार) है। यदि वह प्रचलित करे और उसके बाद फिर एक साल का समय है।



धरम (Education) पर कर्षण प्रतिशत, धरम (Defence) पर कर्षण प्रतिशत कितना प्रतिशत है?

- Ans
- 1. 100%
 - 2. 125%
 - 3. 50%
 - 4. 150%

- Q.25. यदि किसी वक्र का क्षेत्रफल 4851 cm^2 है, तो उसका अर्धपरिधि (cm^2 में) ज्ञात करें। ($\pi = \frac{22}{7}$ लें)

- Ans
- 1. 1386
 - 2. 1268
 - 3. 1399
 - 4. 1427

SAFALTA.COM
An Initiative by अमरउजाला

Get the latest BLACKBOOKS (Vocabulary, GK & CPT) to boost your SSC Exams Preparation.

Q.26 किसी विद्यालय में विद्यार्थियों की कुल संख्या का $\frac{2}{3}$ भाग लड़कियाँ हैं और शेष लड़के हैं। लड़कों की कुल संख्या में से $\frac{1}{4}$ लड़कों की आयु 14 वर्ष से कम है और लड़कियों की कुल संख्या में से $\frac{1}{3}$ लड़कियों की आयु 14 वर्ष या उससे अधिक है। यदि 14 वर्ष से कम आयु वाले विद्यार्थियों की कुल संख्या 1120 है, तो विद्यालय में विद्यार्थियों की कुल संख्या ज्ञात करें।

- Ans
- 1. 1920
 - 2. 1820
 - 3. 1290
 - 4. 1900

Q.27 तीन घण्टियों 3, 5, 8, 9 और 10 मिनट के अंतराल पर एक घुड़ दौड़ होती है। सभी घण्टियों को एकत्र कर एक समय बनाने में 2 घण्टियाँ लगती हैं। 2 घण्टियों के बाद एक घुड़ दौड़ एक घण्टी होती है।

- Ans
- 1. 9 मिनट
 - 2. 8 मिनट
 - 3. 4 मिनट
 - 4. 6 मिनट



Q.28 एक दूध की दुग्धिका 100 लीटर दूध देती है। यदि दूध को 10 लीटर वाले 100 बर्तनों में डालें, तो कितने बर्तनों को दूध भरना पड़ेगा? यदि दूध को 2 लीटर वाले बर्तनों में डालें, तो कितने बर्तनों को दूध भरना पड़ेगा?

- Ans
- 1. 15
 - 2. 8
 - 3. 12
 - 4. 10

AFALTA.COM

An Initiative by अमर उजाला

Question ID: 6549782778

Status: Answered

Chosen Option: 4

Q.29 138,000 की संख्या में 10 से 100 तक के अंकों के अंकों को हटाकर शेष संख्या में से 15% अधिक करके A अंकों के अंकों के अंकों को हटाकर शेष संख्या में से 15% अधिक करके B अंकों के अंकों के अंकों को हटाकर शेष संख्या में से 15% अधिक करके C अंकों के अंकों के अंकों को हटाकर शेष संख्या में से 15% अधिक करके D अंकों के अंकों के अंकों को हटाकर शेष संख्या में से 15% अधिक करके E अंकों के अंकों के अंकों को हटाकर शेष संख्या में से 15% अधिक करके

- Ans
- 1. 1,800
 - 2. 7,200
 - 3. 3,600
 - 4. 5,400

Q.30 A शेष संख्या में 25 अंकों के अंकों को हटाकर शेष संख्या में से 15% अधिक करके B अंकों के अंकों के अंकों को हटाकर शेष संख्या में से 15% अधिक करके C अंकों के अंकों के अंकों को हटाकर शेष संख्या में से 15% अधिक करके D अंकों के अंकों के अंकों को हटाकर शेष संख्या में से 15% अधिक करके E अंकों के अंकों के अंकों को हटाकर शेष संख्या में से 15% अधिक करके

- Ans
- 1. 10
 - 2. 15
 - 3. 8
 - 4. 7

Q.31 शेष संख्या में 13.5% की दर से अंकों को हटाकर शेष संख्या में से 15% अधिक करके B अंकों के अंकों के अंकों को हटाकर शेष संख्या में से 15% अधिक करके C अंकों के अंकों के अंकों को हटाकर शेष संख्या में से 15% अधिक करके D अंकों के अंकों के अंकों को हटाकर शेष संख्या में से 15% अधिक करके E अंकों के अंकों के अंकों को हटाकर शेष संख्या में से 15% अधिक करके

- Ans
- 1. ₹4,200
 - 2. ₹4,800
 - 3. ₹4,400
 - 4. ₹4,600

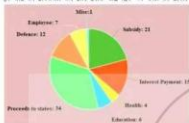
Q.32 शेष संख्या में 25% की दर से अंकों को हटाकर शेष संख्या में से 15% अधिक करके B अंकों के अंकों के अंकों को हटाकर शेष संख्या में से 15% अधिक करके C अंकों के अंकों के अंकों को हटाकर शेष संख्या में से 15% अधिक करके D अंकों के अंकों के अंकों को हटाकर शेष संख्या में से 15% अधिक करके E अंकों के अंकों के अंकों को हटाकर शेष संख्या में से 15% अधिक करके

- Ans
- 1. 18,000
 - 2. 16,000
 - 3. 16,800
 - 4. 15,500

Q.37. एक संख्या के दो बड़े भागों में क्रम 25, 30, 40, 45, 60 और 100 तक प्रतिशत है। एक संख्या के दो बड़े भागों-दोहरा क्रम 20%, 25%, 30%, 40%, 50% और 75% है। दो बड़े भागों के प्रतिशत-दोहरा (दोहरा प्रतिशत) का प्रतिशत क्या है?

- Ans
- ✓ 1. 50%
 - ✗ 2. 43%
 - ✗ 3. 53%
 - ✗ 4. 59%

Q.38. निम्नलिखित चक्र को देखें जो निम्नलिखित चक्रों में प्रत्येक भाग का प्रतिशत दर्शाता है। कुल आय ₹1,680 (एक लाख) है। यदि आप अग्रिमों को और उधार का हिस्सा बना दें तो आप क्या कर सकते हैं?




उधार का अग्रिम (Interest payment) से प्रतिशत (Percentage) का कितना हिस्सा बना दें?

- Ans
- ✗ 1. 72%
 - ✓ 2. 54%
 - ✗ 3. 108%
 - ✗ 4. 90%

Q.39. दो संख्याओं का योग (LCM) 28 है और दो संख्याओं (LCM) के योग का गुणोत्तर 15 और 13 है। उन दो संख्याओं का योग (Sum) क्या है?

- Ans
- ✓ 1. 377
 - ✗ 2. 435
 - ✗ 3. 464
 - ✗ 4. 406

Q.40 4 वर्षों (2011 - 2014) की अवधि में प्रवेश विद्यार्थियों के विषय, स्तर और संख्याएँ नीचे दी गयीं हैं। इनमें से सही उत्तर चुनें।



4 वर्षों की अवधि में प्रवेश के प्रयोग, विद्यार्थियों स्तर में स्तर के प्रवेश का औसत क्या है?

- Ans
- 1 35
 - 2 32
 - 3 25
 - 4 30

Q.41 यदि एक घण्टी के अंतर में 60% की वृद्धि और 1% में 40% की वृद्धि होती है, तो परिणामी घण्टी $\frac{a}{b}$ है जहाँ $\frac{a}{b}$ है जहाँ $\frac{a}{b}$ है।

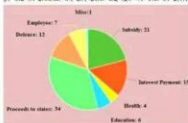
- Ans
- 1 $\frac{4}{9}$
 - 2 $\frac{2}{11}$
 - 3 $\frac{5}{9}$
 - 4 $\frac{2}{9}$



SAFALTA.COM
An Initiative by अमर उजाला

Get the latest BLACKBOOKS (Vocabulary, GK & CPT) to boost your SSC Exams Preparation.

- Q.42. निम्नलिखित चक्रों को देखें (एक से अधिक विकल्प सही हो सकते हैं)। कुल आय ₹ 1,680 (देखें कि)।
 3) यदि आप सरकार को और प्रत्येक संघ (देखें कि) का योग है।



राज्य से रिटर्न (Proceeds to states) का योग कितना है? (सही विकल्पों को चुनें)

- Ans
- 1. 684
 - 2. 126
 - 3. 586.50
 - 4. 571.20

- Q.43. $7 + [5 + 1 + 2 - \{4 + (4 \text{ of } 2 + 4) + (5 + 5 \text{ of } 2)\}]$ का मान ज्ञात करें।

- Ans
- 1. 7
 - 2. $\frac{7}{2}$
 - 3. $-\frac{7}{2}$
 - 4. -7

- Q.44. यदि $\cos \theta = \frac{1}{\sqrt{3}}$, $0^\circ < \theta < 90^\circ$ है, तो $\frac{1 - \sin^2 \theta}{1 - \cos^2 \theta} + (\csc^2 \theta - \sec \theta)$ का मान ज्ञात करें।

- Ans
- 1. 2
 - 2. 5
 - 3. 0
 - 4. 1

Q.45 किन्हीं चतुर्भुजों के क्षेत्रफलों का अनुपात 2 : 7 है। चतुर्भुजों की भुजाएँ कितनी हैं?

- Ans
- 1. 7 cm
 - 2. 10.5 cm
 - 3. 7.5 cm
 - 4. 10 cm

Q.46 निम्नलिखित दो वर्गों के क्षेत्रफल (A) और परिमिति (P) का अनुपात क्रमशः W1, W2, W3, W4 है। निम्नलिखित में से सही उत्तर चुनिए।
 दो वर्गों के क्षेत्रफल क्रमशः 1700cm², 1800cm², 1200cm², 900cm² हैं।
 उनके परिमिति क्रमशः 100, 110, 120, 130 हैं।



निम्नलिखित दो वर्गों के क्षेत्रफल (A) और परिमिति (P) का अनुपात क्रमशः W1, W2, W3, W4 है। निम्नलिखित में से सही उत्तर चुनिए।

- Ans
- 1. W3
 - 2. W1
 - 3. W4
 - 4. W2



Q.47 O एक वर्ग का केंद्र है, AC एक विकर्ण है। यदि ∠OBC = 60° है, तो ∠BOC का मान क्या है?

- Ans
- 1. $5\sqrt{7}$ cm
 - 2. $3\sqrt{7}$ cm
 - 3. 3.5 cm
 - 4. 7 cm

Q.48. निम्नलिखित विद्यमान एक प्रकृष्टक है, जो कि निम्न चित्र में दर्शाया गया है। इस प्रकृष्टक का क्षेत्रफल ज्ञात करें।



यदि कोई छात्र एक दिन एक गुण प्राप्त करे तो वह एक वर्ष में एक ही वर्षीय विद्यार्थी को 200 से परे प्राप्त करेगा, क्योंकि 200 से कम प्राप्त करे नहीं करेगा।

- Ans
- 1. 88⁰
 - 2. 68⁰
 - 3. 154⁰
 - 4. 128⁰

Q.49. एक चतुर्भुज का क्षेत्रफल ज्ञात करें। इस चतुर्भुज की भुजाएँ 12, 10, 10, 12 हैं। इस चतुर्भुज का क्षेत्रफल ज्ञात करें।

- Ans
- 1. 15
 - 2. 12
 - 3. 21
 - 4. 18



Q.50. एक आयत का क्षेत्रफल ज्ञात करें। इस आयत की भुजाएँ 14, 12 हैं। इस आयत का क्षेत्रफल ज्ञात करें।

- Ans
- 1. 216
 - 2. 144
 - 3. 72
 - 4. 288

SAFALTA.COM
An Initiative by अमर उजाला

Section: English Comprehension

Get the latest BLACKBOOKS (Vocabulary, GK & CPT) to boost your SSC Exams Preparation.

Q.1 Select the most appropriate option to substitute the underlined segment in the given sentence. If there is no need to substitute it, select 'No substitution required'.

Suman performed at the festival well yesterday.

- Ans
- 1. at the festival yesterday well
 - 2. yesterday at the festival well
 - 3. well at the festival yesterday
 - 4. No substitution required

Q.2 Select the most appropriate meaning of the given idiom.

Apple of discord

- Ans
- 1. a tempting offer
 - 2. something that causes friction
 - 3. a good opportunity
 - 4. something very special

Q.3 Fill in the blank with the most appropriate word.

The fan was directly _____ my head.

- Ans
- 1. over
 - 2. on
 - 3. below
 - 4. at

Q.4 Select the most appropriate ANTONYM of the given word.

IGNOBLE

- Ans
- 1. noble
 - 2. object
 - 3. corrupt
 - 4. craven

Q.5 Select the most appropriate one-word substitution for the given group of words.

To cross streets on foot carelessly

- Ans
- 1. catwalk
 - 2. wander
 - 3. stroll
 - 4. jaywalk

Q.6 Select the most appropriate meaning of the given idiom.

High time

- Ans
- 1. past the appropriate time
 - 2. time to celebrate something
 - 3. well in time for something
 - 4. time to fly high

Q.7 Identify the segment in the sentence which contains a grammatical error.

He is over eighty and dare not read without glasses.

- Ans
- 1. over eighty and
 - 2. dare not read
 - 3. without glasses
 - 4. He is

Question ID : 6549782805

Status : Answered

Chosen Option : 1

Q.8 Fill in the blank with the most appropriate word.

You have mesmerised your speech, _____ you?

- Ans
- 1. couldn't
 - 2. hasn't
 - 3. didn't
 - 4. haven't

Question ID : 6549782817

Status : Answered

Chosen Option : 4

Q.9 Select the most appropriate synonym of the given word.

OBLIVIOUS

- Ans
- 1. attentive
 - 2. obvious
 - 3. sensitive
 - 4. ignorant

Q.10 Select the most appropriate option to substitute the underlined segment in the given sentence. If there is no need to substitute it, select 'No substitution required'.

The exam was not so easy that we had expected.

- Ans
- 1. such easy as
 - 2. No substitution required
 - 3. as easy as
 - 4. as easy so

Q.11 Identify the segment in the sentence which contains a grammatical error.

I am suitably dressed for the occasion, am I?

- Ans
- 1. for the occasion
 - 2. suitably dressed
 - 3. am I
 - 4. I am

Q.12 Select the most appropriate option to substitute the underlined segment in the given sentence. If there is no need to substitute it, select 'No substitution required'.

I looked anywhere for my puppy but could not find it.

- Ans
- 1. No substitution required
 - 2. nowhere
 - 3. somewhere
 - 4. everywhere

Q.13 Select the most appropriate meaning of the given idiom.

To take stock of

- Ans
- 1. to buy stocks
 - 2. to assess a situation
 - 3. to check the accounts
 - 4. to store goods

Q.14 Select the most appropriate one-word substitution for the given group of words.

Downfall that satisfies natural justice

- Ans
- 1. paradox
 - 2. climax
 - 3. catharsis
 - 4. nemesis

Q.15 Select the most appropriate one-word substitution for the given group of words.

Travelling under a name other than one's own

- Ans
- 1. incredible
 - 2. invisible
 - 3. impromptu
 - 4. incognito

SAFALTA.COM
An Initiative by अमर उजाला

Get the latest BLACKBOOKs (Vocabulary, GK & CPT) to boost your SSC Exams Preparation.

Comprehension:

In the following passage some words have been deleted. Fill in the blanks with the help of the alternatives given. Select the most appropriate option for each number.

Malti had to wait long to see her son, Abhik. She had worked hard to (1) _____ her husband's last wish that Abhik should (2) _____ his higher education at Cambridge. Abhik (3) _____ to be meritorious and hardworking and had secured a seat. Making ends meet was (4) _____ and a trip back home in the vacation, (5) _____ for the mother and son.

Sub-Question No : 16

Q.16 Select the most appropriate option to fill in blank no. 1.

- Ans**
- 1. perform
 - 2. fulfil
 - 3. finish
 - 4. produce

Comprehension:

In the following passage some words have been deleted. Fill in the blanks with the help of the alternatives given. Select the most appropriate option for egg member.

Malti had to wait long to see her son, Abhik. She had worked hard to (1) _____ her husband's last wish that Abhik should (2) _____ his higher education at Cambridge. Abhik (3) _____ to be meritorious and hardworking and had secured a seat. Making ends meet was (4) _____ and a trip back home in the vacation, (5) _____ for the mother and son.

Sub-Question No : 17

Q.17 Select the most appropriate option to fill in blank no. 2.

- Ans**
- 1. delete
 - 2. provide
 - 3. approach
 - 4. forsake

SAFALTA.COM
An Initiative by अमर उजाला

Get the latest BLACKBOOKs (Vocabulary, GK & CPT) to boost your SSC Exams Preparation.

Comprehension:

In the following passage some words have been deleted. Fill in the blanks with the help of the alternatives given. Select the most appropriate option for each number.

Malti had to wait long to see her son, Abhik. She had worked hard to (1) _____ her husband's last wish that Abhik should (2) _____ his higher education at Cambridge. Abhik (3) _____ to be meritorious and hardworking and had secured a seat. Making ends meet was (4) _____ and a trip back home in the vacation, (5) _____, for the mother and son.

Sub-Question No : 18

Q.18 Select the most appropriate option to fill in blank no. 3.

- Ans**
- 1. had proved
 - 2. will prove
 - 3. is proving
 - 4. prove

Comprehension:

In the following passage some words have been deleted. Fill in the blanks with the help of the alternatives given. Select the most appropriate option for egg member.

Malti had to wait long to see her son, Abhik. She had worked hard to (1) _____ her husband's last wish that Abhik should (2) _____ his higher education at Cambridge. Abhik (3) _____ to be meritorious and hardworking and had secured a seat. Making ends meet was (4) _____ and a trip back home in the vacation, (5) _____, for the mother and son.

Sub-Question No : 19

Q.19 Select the most appropriate option to fill in blank no. 4.

- Ans**
- 1. severe
 - 2. difficult
 - 3. shortly
 - 4. inspiring

SAFALTA.COM
An Initiative by अमर उजाला

Get the latest BLACKBOOKs (Vocabulary, GK & CPT) to boost your SSC Exams Preparation.

Comprehension:

In the following passage some words have been deleted. Fill in the blanks with the help of the alternatives given. Select the most appropriate option for each number.

Malti had to wait long to see her son, Abhik. She had worked hard to (1) _____ her husband's last wish that Abhik should (2) _____ his higher education at Cambridge. Abhik (3) _____ to be meritorious and hardworking and had secured a seat. Making ends meet was (4) _____ and a trip back home in the vacation, (5) _____ for the mother and son.

Sub-Question No : 20

Q.20 Select the most appropriate option to fill in blank no. 5.

- Ans
- 1. unaffordable
 - 2. uncouth
 - 3. uncomfortable
 - 4. unbearable

Q.21 Select the most appropriate one-word substitution for the given group of words.

Irresistible impulse to steal

- Ans
- 1. plunder
 - 2. megalomania
 - 3. sabotage
 - 4. kleptomania

Q.22 Select the most appropriate synonym of the given word.

AUSPICIOUS

- Ans
- 1. playful
 - 2. hapless
 - 3. favourable
 - 4. propitious

SAFALTA.COM

An initiative by अमर उजाला

Get the latest BLACKBOOKs (Vocabulary, GK & CPT) to boost your SSC Exams Preparation.

Q.23 Fill in the blank with the most appropriate word.

It is not easy to distinguish a loyal friend _____ a flatterer.

- Ans
- 1. among
 - 2. from
 - 3. between
 - 4. and

Q.24 Select the most appropriate synonym of the given word.

AUTHENTIC

- Ans
- 1. counterfeit
 - 2. genuine
 - 3. dubious
 - 4. incredible

Q.25 Select the misspelt word.

- Ans
- 1. carnage
 - 2. exhalation
 - 3. descent
 - 4. cautions

Q.26 Identify the segment in the sentence which contains a grammatical error.

Either Ramesh or Reema have the keys to the cupboard.

- Ans
- 1. the cupboard
 - 2. or the cupboard
 - 3. the keys
 - 4. Either Ramesh

Q.27 Select the misspelt word.

- Ans
- 1. magnificent
 - 2. mediocre
 - 3. millionaire
 - 4. miraculous

Q.28 Select the misspelt word.

- Ans
- 1. visible
 - 2. gallery
 - 3. earnest
 - 4. empty

Q.29 Select the most appropriate ANTONYM of the given word.

HUMILITY

- Ans
- 1. modesty
 - 2. envy
 - 3. similitude
 - 4. servility

Q.30 Select the most appropriate synonym of the given word.

GRADUAL

- Ans
- 1. hasty
 - 2. incremental
 - 3. unceremonious
 - 4. abrupt

Q.31 Select the most appropriate synonym of the given word.

FLABBERGASTED

- Ans
- 1. disturbed
 - 2. astounded
 - 3. motivated
 - 4. terrified

Q.32 Select the most appropriate option to substitute the underlined segment in the given sentence. If there is no need to substitute it, select 'No substitution required'.

Have taken permission, Shivam went horse riding.

- Ans
- 1. Having taken permission
 - 2. Having taking permission
 - 3. Have took permission
 - 4. No substitution required

Q.33 Identify the segment in the sentence which contains a grammatical error.

She will come to work though it doesn't rain tomorrow.

- Ans
- 1. She will come
 - 2. to work
 - 3. rain tomorrow
 - 4. though it doesn't

Q.34 Fill in the blank with the most appropriate word.

We cannot delay the project _____ it is urgent.

- Ans
- 1. than
 - 2. although
 - 3. as if
 - 4. because

Q.35 Identify the segment in the sentence which contains a grammatical error.

The information you are asking for is quite irrelevant.

- Ans
- 1. you are
 - 2. is quite irrelevant
 - 3. asking for
 - 4. The information

Q.36 Select the most appropriate ANTONYM of the given word.

FLEXIBLE

- Ans
- 1. pliable
 - 2. rigid
 - 3. ductile
 - 4. elastic

Q.37 Select the misspelt word.

- Ans
- 1. occurred
 - 2. oppressed
 - 3. accommodate
 - 4. semimissile

Q.38 Select the most appropriate ANTONYM of the given word.

INDUSTRIOUS

- Ans
- 1. productive
 - 2. assiduous
 - 3. diligent
 - 4. indolent

Q.39 Select the most appropriate ANTONYM of the given word.

FEROCIOUS

- Ans
- 1. gentle
 - 2. ruthless
 - 3. fearless
 - 4. brutal

Q.40 Select the most appropriate meaning of the given idiom.

Make up one's mind

- Ans
- 1. to achieve
 - 2. to decide
 - 3. to lie
 - 4. to pretend

Q.41 Fill in the blank with the most appropriate word.

The man _____ book you are reading is my father.

- Ans
- 1. who
 - 2. whose
 - 3. whom
 - 4. that

Q.42 Select the most appropriate option to substitute the underlined segment in the given sentence. If there is no need to substitute it, select 'No substitution required'.

I am certain Ajit has finished his work by tomorrow.

- Ans
- 1. had finished
 - 2. will have finished
 - 3. No substitution required
 - 4. would have finish

Q.43 Select the most appropriate meaning of the given idiom.

Sitting on a gold mine

- Ans
- 1. not availing of an opportunity
 - 2. wasting a vast treasure
 - 3. to own something potentially valuable
 - 4. secretly hunting for something precious

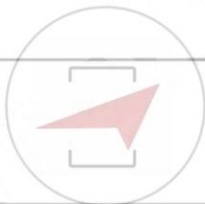
Q.44 Select the most appropriate one-word substitution for the given group of words.

To separate husk from the grain

- Ans
- 1. whisk
 - 2. winnow
 - 3. whip
 - 4. willow

Q.45 Select the misspelt word.

- Ans
- 1. hepp
 - 2. reluse
 - 3. pierce
 - 4. decieve



SAFALTA.COM
An Initiative by अमर उजाला

Get the latest BLACKBOOKs (Vocabulary, GK & CPT) to boost your SSC Exams Preparation.

Comprehension:

Read the given passage and answer the questions that follow.

Early written symbols were based on pictographs (pictures which resemble what they signify) and ideograms (symbols which represent ideas). Ancient Sumerian, Egyptian, and Chinese civilizations began to adapt such symbols to represent concepts, developing them into logographic writing systems. Pictographs are still in use as the main medium of written communication in some non-literate cultures in Africa, the Americas, and Oceania. Pictographs are often used as simple, pictorial, representational symbols by most contemporary cultures.

Pictographs can be considered an art form, or can be considered a written language and are designated as such in Pre-Columbian art, Native American art, Ancient Mesopotamia and Painting in the Americas before Colonization. One example of many is the Rock art of the Chumash people, part of the Native American history of California.

An early modern example of the extensive use of pictographs may be seen in the map in the London suburban timetables of the London and North Eastern Railway, 1936-1947, designed by George Dore, in which a variety of pictographs was used to indicate facilities available near each station. Pictographs remain in common use today, serving as pictorial, representational signs, instructions, or statistical diagrams. Because of their graphical nature and fairly realistic style, they are widely used to indicate public toilets, or places such as airports and train stations. Because they are a concise way to communicate a concept to people who speak many different languages, pictographs have also been used extensively at the Olympics since 1984 Summer Olympics, and are redesigned for each set of games. Pictographs can often transcend languages in that they can communicate to speakers of a number of tongues and language families equally effectively, even if the languages and cultures are completely different. This is why road signs and similar pictographic material are often applied as global standards expected to be understood by nearly all.

A standard set of pictographs was defined in the international standard ISO 7001: Public Information Symbols. Other common sets of pictographs are the laundry symbols used on clothing tags and the chemical hazard symbols as standardized by the GHS system. Pictographs have been popularised in use on the web, and in software, better known as "icons" displayed on a computer screen in order to help users navigate a computer system or mobile device.

SubQuestion No - 46

Q.46 What is the passage mainly about?

- Ans
- 1. The origin of pictographs
 - 2. Limitations of pictographs
 - 3. Pictographs as an art form
 - 4. Use of pictographs in ancient and modern times



SAFALTA.COM
An Initiative by अमर उजाला

Get the latest BLACKBOOKS (Vocabulary, GK & CPT) to boost your SSC Exams Preparation.

Comprehension:

Read the given passage and answer the questions that follow.

Early written symbols were based on pictographs (pictures which resemble what they signify) and ideograms (symbols which represent ideas). Ancient Sumerian, Egyptian, and Chinese civilizations began to adapt such symbols to represent concepts, developing them into ideographic writing systems. Pictographs are still in use as the main medium of written communication in some non-literate cultures in Africa, the Americas, and Oceania. Pictographs are often used as simple, pictorial, representational symbols by most contemporary cultures.

Pictographs can be considered an art form, or can be considered a written language and are designated as such in Pre-Columbian art, Native American art, Ancient Mesopotamia and Painting in the Americas before Colonization. One example of many is the Rock art of the Chumash people, part of the Native American history of California.

An early modern example of the extensive use of pictographs may be seen in the map in the London suburban timetables of the London and North Eastern Railway, 1936-1947, designed by George Dove, in which a variety of pictographs was used to indicate facilities available near each station. Pictographs remain in common use today, serving as pictorial, representational signs, instructions, or statistical diagrams. Because of their graphical nature and fairly realistic style, they are widely used to indicate public toilets, or places such as airports and train stations. Because they are a concise way to communicate a concept to people who speak many different languages, pictographs have also been used extensively at the Olympics since 1964 Summer Olympics, and are redesigned for each set of games.

Pictographs can often transcend languages in that they can communicate to speakers of a number of tongues and language families equally effectively, even if the languages and cultures are completely different. This is why road signs and similar pictographic material are often applied as global standards expected to be understood by nearly all.

A standard set of pictographs was defined in the international standard ISO 7001: Public Information Symbols. Other common sets of pictographs are the laundry symbols used on clothing tags and the chemical hazard symbols as standardized by the GHS system. Pictographs have been popularised in use on the web, and in software, better known as 'icons' displayed on a computer screen in order to help users navigate a computer system or mobile device.

SubQuestion No : 47

Q.47 Pictographs are used in Olympic games because:

- Ans
- 1. they can help to navigate computer systems
 - 2. they can be redesigned for each set of games
 - 3. they are the main medium of written communication
 - 4. they can transcend languages and convey information effectively



SAFALTA.COM
An Initiative by अमर उजाला

Get the latest BLACKBOOKS (Vocabulary, GK & CPT) to boost your SSC Exams Preparation.

Comprehension:

Read the given passage and answer the questions that follow.

Early written symbols were based on pictographs (pictures which resemble what they signify) and ideograms (symbols which represent ideas). Ancient Sumerian, Egyptian, and Chinese civilizations began to adapt such symbols to represent concepts, developing them into logographic writing systems. Pictographs are still in use as the main medium of written communication in some non-literate cultures in Africa, the Americas, and Oceania. Pictographs are often used as simple, pictorial, representational symbols by most contemporary cultures.

Pictographs can be considered an art form, or can be considered a written language and are designated as such in Pre-Columbian art, Native American art, Ancient Mesopotamia and Painting in the Americas before Colonization. One example of many is the Rock art of the Chumash people, part of the Native American history of California.

An early modern example of the extensive use of pictographs may be seen in the map in the London suburban timetables of the London and North Eastern Railway, 1936-1947, designed by George Dow, in which a variety of pictographs was used to indicate facilities available near each station. Pictographs remain in common use today, serving as pictorial, representational signs, instructions, or statistical diagrams. Because of their graphical nature and fairly realistic style, they are widely used to indicate public toilets, or places such as airports and train stations. Because they are a concise way to communicate a concept to people who speak many different languages, pictographs have also been used extensively at the Olympics since 1964 Summer Olympics, and are redesigned for each set of games.

Pictographs can often transcend languages in that they can communicate to speakers of a number of tongues and language families equally effectively, even if the languages and cultures are completely different. This is why road signs and similar pictographic material are often applied as global standards expected to be understood by nearly all.

A standard set of pictographs was defined in the international standard ISO 7001: Public Information Symbols. Other common sets of pictographs are the laundry symbols used on clothing tags and the chemical hazard symbols as standardized by the GHS system. Pictographs have been popularised in use on the web, and in software, better known as "icons" displayed on a computer screen in order to help users navigate a computer system or mobile device.

SubQuestion No - 48

Q.48 Which of the following statements is NOT true?

- Ans 1 Rock art of Chumash people is part of Mesopotamian history.
- 2 Pictographs are widely used to depict road signs.
- 3 George Dow used pictographs to represent facilities near each train station.
- 4 Ideograms are symbols which represent ideas.

SAFALTA.COM
An Initiative by अमर उजाला

Get the latest BLACKBOOKS (Vocabulary, GK & CPT) to boost your SSC Exams Preparation.

Comprehension:

Read the given passage and answer the questions that follow.

Early written symbols were based on pictographs (pictures which resemble what they signify) and ideograms (symbols which represent ideas). Ancient Sumerian, Egyptian, and Chinese civilizations began to adapt such symbols to represent concepts, developing them into logographic writing systems. Pictographs are still in use as the main medium of written communication in some non-literate cultures in Africa, the Americas, and Oceania. Pictographs are often used as simple, pictorial, representational symbols by most contemporary cultures.

Pictographs can be considered an art form, or can be considered a written language and are designated as such in Pre-Columbian art, Native American art, Ancient Mesopotamia and Painting in the Americas before Colonization. One example of many is the Rock art of the Chumash people, part of the Native American history of California.

An early modern example of the extensive use of pictographs may be seen in the map in the London suburban timetables of the London and North Eastern Railway, 1936-1947, designed by George Dove, in which a variety of pictographs was used to indicate facilities available near each station. Pictographs remain in common use today, serving as pictorial, representational signs, instructions, or statistical diagrams. Because of their graphical nature and fairly realistic style, they are widely used to indicate public toilets, or places such as airports and train stations. Because they are a concise way to communicate a concept to people who speak many different languages, pictographs have also been used extensively at the Olympics since 1964 Summer Olympics, and are redesigned for each set of games.

Pictographs can often transcend languages in that they can communicate to speakers of a number of tongues and language families equally effectively, even if the languages and cultures are completely different. This is why road signs and similar pictographic material are often applied as global standards expected to be understood by nearly all.

A standard set of pictographs was defined in the international standard ISO 7001: Public Information Symbols. Other common sets of pictographs are the laundry symbols used on clothing tags and the chemical hazard symbols as standardized by the GHS system.

Pictographs have been popularised in use on the web, and in software, better known as "icons" displayed on a computer screen in order to help users navigate a computer system or mobile device.

SubQuestion No : 49

Q.49 Early civilisations used symbols to represent:

- Ans 1 concepts
 2 facilities
 3 culture
 4 art



SAFALTA.COM
An Initiative by अमर उजाला

Get the latest BLACKBOOKS (Vocabulary, GK & CPT) to boost your SSC Exams Preparation.

Comprehension:

Read the given passage and answer the questions that follow.

Early written symbols were based on pictographs (pictures which resemble what they signify) and ideograms (symbols which represent ideas). Ancient Sumerians, Egyptians, and Chinese civilizations began to adapt such symbols to represent concepts, developing them into ideographic writing systems. Pictographs are still in use as the main medium of written communication in some non-literate cultures in Africa, the Americas, and Oceania. Pictographs are often used as simple, pictorial, representational symbols by most contemporary cultures.

Pictographs can be considered an art form, or can be considered a written language and are designated as such in Pre-Columbian art, Native American art, Ancient Mesopotamia and Painting in the Americas before Colonization. One example of many is the Rock art of the Chumash people, part of the Native American history of California.

An early modern example of the extensive use of pictographs may be seen in the map in the London suburban timetables of the London and North Eastern Railway, 1936-1947, designed by George Dore, in which a variety of pictographs was used to indicate facilities available near each station. Pictographs remain in common use today, serving as pictorial, representational signs, instructions, or statistical diagrams. Because of their graphical nature and fairly realistic style, they are widely used to indicate public toilets, or places such as airports and train stations. Because they are a concise way to communicate a concept to people who speak many different languages, pictographs have also been used extensively at the Olympics since 1964 Summer Olympics, and are redesigned for each set of games.

Pictographs can often transcend languages in that they can communicate to speakers of a number of tongues and language families equally effectively, even if the languages and cultures are completely different. This is why road signs and similar pictographic material are often applied as global standards expected to be understood by nearly all.

A standard set of pictographs was defined in the international standard ISO 7001: Public Information Symbols. Other common sets of pictographs are the laundry symbols used on clothing tags and the chemical hazard symbols as standardized by the GHS system. Pictographs have been popularised in use on the web, and in software, better known as 'icons' displayed on a computer screen in order to help users navigate a computer system or mobile device.

Sub-Question No : 50

Q.50 Which of the following is an early example of use of pictographs in modern times?

- Ans 1 London railway timetable
 2 Logographic writing system
 3 Chemical hazard symbols
 4 Icons on a computer screen



SAFALTA.COM

An Initiative by अमर उजाला