

**Recruitment of SI in CAPFs ASI in CISF and SI in Delhi Police Examination
2020 Paper I**

Roll No.	
Candidate Name	
Venue Name	
Exam Date	23/11/2020
Exam Time	3:00 PM - 5:00 PM
Subject	SI CPO Examination 2020

Section : General Intelligence and Reasoning

Q.1 निम्न वेज आरेख में, 'पंचभुज' आकृतिरेख को निरूपित करता है, 'द्वुज' 'पुष्ट दशमने वाली' को निरूपित करता है और 'चर' 'त्रिभुजा धारक' को निरूपित करता है। टी गयी संख्याएं उस विशेष वेज के व्यक्तियों की संख्या दर्शाती हैं। कितने 'त्रिभुजा धारक' ऐसे हैं, जो 'पुष्ट दशमने वाले' भी हैं, लेकिन 'आकृतिरेख' नहीं हैं?



- Ans
- 1. 18
 - 2. 21
 - 3. 40
 - 4. 55



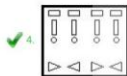
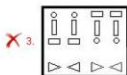
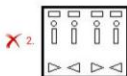
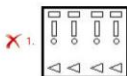
SAFALTA.COM

An Initiative by अमर उजाला

Q.2 एक कागज को निम्नानुसार मोड़ा और काटा गया। यह कागज खोलने पर कैसा दिखेगा?



Ans





Question ID : 8161616136
 Status : Answered
 Chosen Option : 4

Q.3 उस वंश आरेख का चयन करें, जो नीचे दिए गए वंशों के बीच संबंध को सर्वश्रेष्ठ रूप से दर्शाता है।

बहने, भतीजे, माताएं

Ans



SAFALTA.COM
 An Initiative by अमर उजाला

Q.4 किसी शब्द भाषा में, यदि 'she was working' को '592', 'I was curious' को '267' और 'she is curious' को '987' लिखा जाता है, तो उसी शब्द भाषा में 'she' को किस प्रकार लिखा जाएगा?

- Ans
- 1. 8
 - 2. 2
 - 3. 5
 - 4. 9

Q.5 उस विकल्प का चयन करें, जो तीसरे अक्षर-समूह से ठीक उसी प्रकार संबंधित है, जिस प्रकार दूसरा अक्षर-समूह, पहले अक्षर-समूह से संबंधित है।

CROW : XILD :: SPONGE : ?

- Ans
- 1. HKLMTV
 - 2. HKLMSY
 - 3. HKLPRV
 - 4. FJLMTV

Q.6 एक बस में कुल 60 छात्र यात्रा कर रहे हैं। उनमें लड़के और लड़कियों की संख्या का अनुपात 2 : 1 है। अगले बस स्टॉप पर बस से 15 लड़के उतरें और 5 लड़कियां बस में चढ़ीं, और उसके बाद बस स्टॉप पर 5 लड़के चढ़े और 10 लड़कियां उतरीं। तो इस दूसरे बस स्टॉप के बाद बस में लड़के और लड़कियों की संख्या का अनुपात क्या होगा?

- Ans
- 1. 3 : 2
 - 2. 2 : 3
 - 3. 3 : 1
 - 4. 2 : 1

SAFALTA.COM

An Initiative by अमर उजाला

Q.7 निम्न श्रेणी में प्रश्नवाचक चिह्न (?) के स्थान पर कौन-सी संख्या आएगी?

58, 59, 51, 78, 14, ?

- Ans
- 1. 163
 - 2. 139
 - 3. 83
 - 4. 97

Q.8 दिए गए पैरामे को ध्यान से पढ़ें और उस संख्या का घनन करें, जो इसमें परमजघक विहन (?) के स्थान पर आ सकती है।

16	14	19
391	270	?
23	18	14

- Ans
- 1. 280
 - 2. 320
 - 3. 258
 - 4. 240

Q.9 उस अक्षर-समूह का घनन करें, जो दी गई अक्षर-समूह की श्रेणी में परमजघक विहन (?) के स्थान पर आएगा।
YM, WO, UQ, ?, GU

- Ans
- 1. RS
 - 2. ST
 - 3. TS
 - 4. SS



Q.10 दो कथन और उनके बाद I, II और III तीन निष्कर्ष दिए गए हैं। यहाँ जगती तुर कि दिए गए कथन सही हैं, अने ही के सभसभ रूप से जल तथ्यों के विहन प्रयोग होते हैं, निर्धारित करें कि कौन-कौनसे निष्कर्ष तर्कसंगत रूप से इन कथनों का अनुसरण करता है। बताते हैं।

कथन:

सभी अनुसंधान अमर हैं।

कुरु अनुसंधान सौंद हैं।

निष्कर्ष:

I. कुरु अमर सौंद हैं।

II. कौंसे सौंद अमर सही हैं।

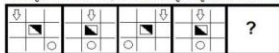
III. कुरु अमर अनुसंधान हैं।

- Ans
- 1. केवल निष्कर्ष I और III अनुसरण करते हैं।
 - 2. केवल निष्कर्ष III अनुसरण करता है।
 - 3. केवल निष्कर्ष I और II अनुसरण करते हैं।
 - 4. केवल निष्कर्ष I अनुसरण करता है।

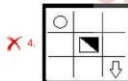
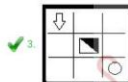
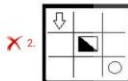
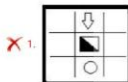
Q.11 किसी शब्द भाषा में 'NIGHT' को 'GHINT' के रूप में लिखा जाता है, तो उसी शब्द भाषा में 'AMPLITUDE' को किस रूप में लिखा जाएगा?

- Ans
- ✗ 1. PDEILMTPU
 - ✗ 2. ADELPIMTU
 - ✓ 3. ADEILMPTU
 - ✗ 4. PDEILMATU

Q.12 उस आकृति का घयन करें, जो निम्न आकृति श्रृंखला में परमसाधक चिह्न (?) के स्थान पर आएगी।



Ans



SAFALTA.COM

An Initiative by अमर उजाला

Q.13 यदि 'A', 'जड़' को दर्शाता है, 'B', 'पुल' को दर्शाता है, 'C', 'घाट' को दर्शाता है और 'D', 'भर' को दर्शाता है, तो निम्न व्यंजन का अर्थ ज्ञात करें।
74 A (31 B 2) B 2 C (68 C 4) D (4 B 2) = ?

- Ans
- 1. 98
 - 2. 188
 - 3. 190
 - 4. 160

Q.14 कौन सा अक्षर घर से ऊपर की ओर सीधी रेखा में 40 m चलता है। उसके बाद वह बाएं मुड़ जाता है और 25 m चलता है। वह फिर से बाएं मुड़ता है और 15 m चलता है। अंततः, वह बाएं मुड़ता है और 25 m चलकर बिंदु X तक पहुँचता है। उसके घर और बिंदु X के बीच की न्यूनतम दूरी कितनी है?

- Ans
- 1. 22 m
 - 2. 15 m
 - 3. 55 m
 - 4. 25 m



Q.15 उस विकल्प का चयन करें, जो तीसरे अक्षर-समूह से ठीक उसी प्रकार संबंधित है, जिस प्रकार दूसरा अक्षर-समूह, पहले अक्षर-समूह से संबंधित है।

ZODIAC : DOZCAL :: MISTER : ?

- Ans
- 1. SFUTJN
 - 2. NITUFS
 - 3. SIMRET
 - 4. SMIRTE

SAFALTA.COM
An Initiative by अमर उजाला

Q.16 उस विकल्प का चयन करें, जो दिए गए शब्दों के तार्किक एवं अर्थपूर्ण क्रम विन्यास को दर्शाता है।

1. उनका
2. स्तंभिका
3. अंग
4. मानव शरीर
5. अंग तंत्र


- Ans
- ✗ 1. 2, 1, 5, 4, 3
 - ✗ 2. 2, 3, 1, 5, 4
 - ✓ 3. 2, 1, 3, 5, 4
 - ✗ 4. 1, 2, 3, 5, 4

Q.17 उस आकृति का चयन करें, जो निम्न आकृति श्रृंखला में परमत्वाचक चिह्न (?) के स्थान पर आएगी।



Ans

- ✓ 1.
- ✗ 2.
- ✗ 3.
- ✗ 4.



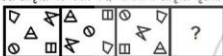
SAFALTA.COM
An Initiative by अमर उजाला

Q.18 दी गई शीट को प्रोक्षर एक छान बनाने वाले पर, उसके विपरीत पलकों पर निम्न प्रतीकों का क्रम-मा क्रम होगा?



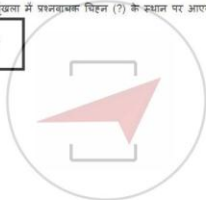
- Ans
- ✓ 1. + और @
 - ✗ 2. % और +
 - ✗ 3. @ और &
 - ✗ 4. # और &

Q.19 उस आकृति का चयन करें, जो निम्न आकृति श्रृंखला में प्रथमदशक स्थिति (?) के स्थान पर आएगी।



Ans

- ✗ 1.
- ✗ 2.
- ✗ 3.
- ✓ 4.



SAFALTA.COM
An Initiative by अमर उजाला

Q.20 उस विकल्प का चयन करें, जिसमें दी गई आकृति (X) अंतर्निहित है (घुमावों की अनुमति नहीं है)।



Ans

✓ 1.



✗ 2.



✗ 3.



✗ 4.



Q.21 निम्न श्रेणी में प्रश्नवाचक चिह्न (?) के स्थान पर कौन-सी संख्या आएगी?

37, ?, 61, 78, 97, 120, 149

Ans

✗ 1. 60

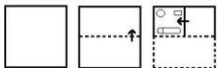
✗ 2. 51

✓ 3. 48

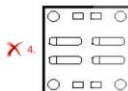
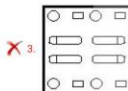
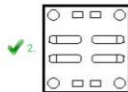
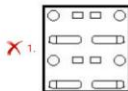
✗ 4. 42

SATIALTA.COM
An Initiative by अमर उजाला

Q.22 एक कागज को निम्नानुसार मोड़ा और काटा गया। यह कागज खोलने पर कैसा दिखेगा?



Ans



SAFALTA.COM

Q.23 उस विकल्प का चयन करें, जो दिए गए शब्दों के उस क्रम को दर्शाए, जिस क्रम में वे अंग्रेजी शब्दों में आते हैं।

1. Martial
2. Margin
3. Martyr
4. Marking
5. Marvel

Ans ✗ 1. 2, 1, 4, 3, 5

✗ 2. 2, 4, 3, 1, 5

✗ 3. 1, 2, 4, 5, 3

✓ 4. 2, 4, 1, 3, 5

Q.24 दो कथन और उनके बाद I और II दो निष्कर्ष दिए गए हैं। यह मानते हुए कि दिए गए कथन सही हैं, कौसे ही में सम्बन्ध रूप से जहाँ तथ्यों से निम्न प्रतीत होते हैं, निर्धारित करें कि कौसे निष्कर्ष तर्कसंगत रूप से इन कथनों का अनुसरण करता है। बताते हैं।

कथन:

कोई अभियोग अभियोग नहीं है।
सभी अभियोग जादूगर हैं।

निष्कर्ष:

I. कोई जादूगर अभियोग नहीं है।
II. कुछ जादूगर अभियोग हैं।

- Ans
- 1. केवल निष्कर्ष I अनुसरण करता है।
 - 2. केवल निष्कर्ष II अनुसरण करता है।
 - 3. दोनों निष्कर्ष अनुसरण करते हैं।
 - 4. या तो निष्कर्ष I या निष्कर्ष II अनुसरण करता है।

Q.25 निम्न श्रेणी में प्रश्नवाचक चिह्न (?) के स्थान पर कौन-सी संख्या आएगी?

65, 85, 112, ?, 215, 305, 430

- Ans
- 1. 150
 - 2. 161
 - 3. 153
 - 4. 167

SAFALTA.COM

Q.26 दिए गए पाठ अक्षर-समूहों में से तीन एक विशेषता धारक से सम्बन्धित हैं, जबकि एक विभिन्न है। इस विभिन्न समूह को चुनकर चिह्नित करें।

- Ans
- 1. YNID
 - 2. IXSN
 - 3. CSMH
 - 4. JYTO

Q.27 उस अक्षर-समूह का घटान करें, जो दो नई अक्षर-समूह की श्रेणी में प्रभावदाक विद्युत (?) के स्थान पर आएगा।
ZBGS, WXLM, ? , GPBA, NLWU

- Ans
- 1. TTGH
 - 2. STGG
 - 3. TSHG
 - 4. TTGG

Q.28 जब दर्पण को निम्नानुसार 'PO' पर रखा गया हो, तो दिए गए संयोजन का सही दर्पण-परिचित्र का घटान करें।

4 6 3 2 K R $\left| \begin{array}{c} P \\ O \end{array} \right.$

- Ans
- 1. R K S S E E P
 - 2. R K Z E 9 P
 - 3. P K S S E E R
 - 4. E S Z K R



Q.29 उस संख्या-पूरुम का घटान करें, जिसकी दोनों संख्याओं के बीच बड़ी संख्या है, जो नीचे दिए गए संख्या-पूरुम की दोनों संख्याओं के बीच है।
5 : 75

- Ans
- 1. 7 : 83
 - 2. 9 : 343
 - 3. 6 : 36
 - 4. 8 : 192

SAFALTA.COM
An Initiative by अमर उजाला

Q.30 दिए गए पैटर्न को ध्यान से पढ़ें और उस संख्या का चयन करें, जो इसमें परभावपूर्ण चिह्न (?) के स्थान पर आ सकती है।

4507	7077	37
2503	3067	26
3307	4061	?

- Ans
- 1. 45
 - 2. 24
 - 3. 72
 - 4. 67

Q.31 जब दर्पण को निम्नानुसार 'PQ' पर रखा गया हो, तो दिए गए संयोजन का सही दर्पण-चित्रिका का चयन करें।



- Ans
- 1.
 - 2.
 - 3.
 - 4.



SAFALTA.COM

An initiative by अमर उजाला

Q.32 निम्न समीकरण को संतुलित करने के लिए, इसके किन दो चिह्नों को आपस में बदलना होगा?

$$4 \times 7 + 36 - 12 \div 6 = 25$$

- Ans
- 1. \div और $-$
 - 2. $+$ और $-$
 - 3. \div और \times
 - 4. \times और $-$

Q.33 यदि 5 नवम्बर 2019 को मंगलवार था, तो 5 दिसंबर 2011 को सप्ताह का कौन-सा दिन था?

- Ans
- 1. मंगलवार
 - 2. रविवार
 - 3. शनिवार
 - 4. सोमवार

Q.34 दिए गए पैरम को ध्यान से पढ़ें और उस संख्या का घनत्व करें, जो इसमें प्रभावपूर्ण चिह्न (?) के स्थान पर आ सकता है।

14	28	98
7	48	84
?	60	60

- Ans
- 1. 15
 - 2. 16
 - 3. 12
 - 4. 4



Q.35 किसी कूट भाषा में 'CLARITY' को '176' के रूप में लिखा जाता है। तो उसी कूट भाषा में 'FROZEN' को किस रूप में लिखा जाएगा?

- Ans
- 1. 186
 - 2. 216
 - 3. 160
 - 4. 168

SAFALTA.COM
An Initiative by अमरउजाला

Q.36 उस अक्षर-समूह का घनत्व करें, जो दी गई अक्षर-समूह की श्रेणी में प्रभावपूर्ण चिह्न (?) के स्थान पर आएगा।
AGM, EKN, IOO, ?, UWG

- Ans
- 1. MSP
 - 2. OTP
 - 3. NSQ
 - 4. OSP

Q.37 किसी बूट भाषा में 'dish is tasty' को 'lam kam dam', 'it is sweet' को 'ram sam kam' और 'it ate dish' को 'yam dam pam' लिखा जाता है, तो उसी बूट भाषा में 'tasty sweet' को किस प्रकार लिखा जाएगा?

- Ans
- 1. lam ram
 - 2. sam dam
 - 3. sam kam
 - 4. sam lam

Q.38 किसी बूट भाषा में 'TORCH' को 'WRUFK' के रूप में लिखा जाता है, तो उसी बूट भाषा में 'WINTER' को किस रूप में लिखा जाएगा?

- Ans
- 1. ZLQWHV
 - 2. ZLPWGU
 - 3. ZLQWHU
 - 4. YLQXHU

Q.39 किसी संख्या के बारे, उसके घन और उसकी अगली संख्या के घन का योग 205 है। वह संख्या क्या होगी?

- Ans
- 1. 5
 - 2. 3
 - 3. 6
 - 4. 4

SAFALTA.COM
An Initiative by अमर उजाला

Q.40 दिए गए चार अक्षर-समूहों में से तीन एक निश्चित प्रकार से समान हैं, जबकि एक भिन्न है। उस भिन्न अक्षर-समूह का चयन कीजिए।

- Ans
- 1. FJNQ
 - 2. LPTW
 - 3. BFJM
 - 4. SVAD

Q.41 उस विकल्प अष्टुति का चयन करें, जो दी गई अष्टुति (X) में अंतर्निहित है (सुझावों की अनुमति नहीं है)।



Ans



Q.42 मॉडलिंग चित्रों के उस सही संयोजन का चयन करें, जिसे निम्न अमीकरण को संतुलित करने के लिए, इसमें बाएं से दाएं = के स्थान पर इच्छित रूप से रखा जा सके।

$$24 \times 12 \div 35 \times 24 \div 6 \times 310$$

Ans

✗ 1. $\div, +, +, -, \times, =$

✗ 2. $\times, \div, +, +, -, =$

✗ 3. $+, -, +, \times, =$

✓ 4. $\times, +, -, \div, =$

Q.43 अठ खिच A, B, C, D, E, F, G और H इले ड्रम में और समान अंतराल पर एक मोड़ में पर एक मोड़ की ओर की ओर मुड़ करके दक्षिणावर्त बड़े हुए हैं। यदि D का मुड़ दक्षिण-पश्चिम की ओर है, तो H के दायाँ और तीसरे स्थान पर कौन बैठे हैं?

Ans

✗ 1. D

✗ 2. F

✗ 3. C

✓ 4. E

Q.44 दिए गए पैरों को ध्यान से पढ़ें और उस संख्या का ध्यान करें, जो इसमें परभावपूर्ण चिह्न (?) के स्थान पर आ सकता है।

9	8	12
6	3	8
45	?	80

- Ans
- 1. 55
 - 2. 60
 - 3. 50
 - 4. 75

Q.45 सूर्योदय के समय टोला और अफिल पार्क में एक-दूसरे की ओर पीठ करके बैठे हुए हैं। यदि टोला की परछाईं अफिल के दाहिने ओर पड़ रही है, तो अफिल का मुँह किस दिशा की ओर है?

- Ans
- 1. दक्षिण
 - 2. पूर्व
 - 3. उत्तर
 - 4. पश्चिम



Q.46 एक लड़की की तस्वीर की ओर इशारा करते हुए देव ने कहा, "यह मेरी पत्नी की बहन की माँ के एकमात्र पुत्र की पुत्री है।" उस लड़की के दादा का देव की पत्नी से क्या संबंध है?

- Ans
- 1. बहन
 - 2. बहू
 - 3. पुत्री
 - 4. चाची

SAFALTA.COM
An Initiative by अमर उजाला

Q.47 निम्न श्रेणी में प्रश्नवाचक चिह्न (?) के स्थान पर कौन-सी संख्या आएगी?
17, 37, 77, 157, 317, ?

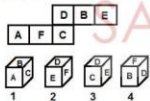
- Ans
- 1. 634
 - 2. 637
 - 3. 649
 - 4. 683

Q.48 'A % B' का अर्थ है कि 'A, B की बहन है'।
'A + B' का अर्थ है कि 'A, B के पिता हैं'।
'A ! B' का अर्थ है कि 'A, B का भाई है'।
यदि P ! H + Q % M + T % K ! J, तो Q का J से क्या संबंध है?

- Ans
- 1. बुआ
 - 2. बहू
 - 3. मौसी
 - 4. साली



Q.49 दो गड़ शीट को एक छल के रूप में मोड़कर निम्न में से कौन-सा पैसा मिलित किया जा सकता है?



- Ans
- 1. केवल 3
 - 2. कोई भी नहीं
 - 3. केवल 1 और 4
 - 4. केवल 2

SAFALTA.COM

An Initiative by अमर उजाला


Q.50 पाँच व्यक्ति लोपा, कृपा, सुमी, जानी और सुष एक सीधी पंक्ति में उत्तर की ओर मुँह करके बैठे हुए हैं। सुष, सुमी के बाईं ओर बगल में बैठी है। जानी, लोपा के ठीक बगल में दाहिनी ओर है। कृपा, सुष और जानी के बीच में है। लोपा और कृपा के बीच में कौन बैठा हुआ है?

- Ans
- 1. सुष
 - 2. आंकड़े अपर्याप्त है।
 - 3. या तो सुष या सुमी
 - 4. जानी

Section : General Knowledge and General Awareness

Q.1 निम्न में से कौन-सा राज्य स्वतः उत्तर प्रदेश राज्य में स्थित नहीं है?

- Ans
- 1. पन्डुल
 - 2. पौखरी
 - 3. धमोक
 - 4. रामभर



Q.2 हिल स्टेशन माधेराज किस राज्य में स्थित है?

- Ans
- 1. कर्नाटक
 - 2. तमिलनाडु
 - 3. महाराष्ट्र
 - 4. मध्य प्रदेश

SAFALTA.COM
An Initiative by अमर उजाला

Q.3 निम्न में कौन-सा तिलहन (oilseeds) की श्रेणी के अंतर्गत नहीं आता है?

- Ans
- 1. सोयाबीन
 - 2. जई
 - 3. तिल
 - 4. मूंगफली

Q.4 भारत में राष्ट्रीय खाद्य सुरक्षा अधिनियम विन्म में से किस वर्ष अधिनियमित किया गया था?

- Ans
- 1. 2011
 - 2. 2009
 - 3. 2012
 - 4. 2013

Q.5 'राजोजी फिल्म सिटी' विन्म में से किस शहर के निकट स्थित है?

- Ans
- 1. गुरुग्राम
 - 2. मुंबई
 - 3. हैदराबाद
 - 4. पुणे

Q.6 मेहरगढ़, नवपाषाण काल की बस्ती, पाकिस्तान के _____ प्रांत में स्थित है।

- Ans
- 1. सिंध
 - 2. खैबर पख्तूनखवा
 - 3. बलुचिस्तान
 - 4. पंजाब

Q.7 उदयगिरि और खंडगिरि की प्रसिद्ध गुफाएं _____ में स्थित हैं।

- Ans
- 1. विपूर
 - 2. छत्तीसगढ़
 - 3. ओडिशा
 - 4. उत्तराखंड

Q.8 कोकिल हमपी किस खेल से संबंधित है?

- Ans 1. बल्लेज
 2. वॉलीबॉल
 3. टेबल टेनिस
 4. बस्केटबॉल

Q.9 सीपी रेखा में चलने वाली वस्तु द्वारा उष्मण की गई शक्ति ज्ञात करने के लिए, बल को _____ से गुणा किया जाता है।

- Ans 1. वेग
 2. कार्य
 3. विस्थापन
 4. त्वरण

Q.10 निम्न में से कौन-सा शहर गंगा नदी के मार्ग पर स्थित नहीं है?

- Ans 1. कानपुर
 2. पटना
 3. लखनऊ
 4. प्रयागराज

Q.11 निम्न में से कौन-सा ऐक्शन-एट-ए-डिस्टेंस (action-at-a-distance) बल है?

- Ans 1. तनाव
 2. बिज चार्ज
 3. गुरुत्वाकर्षण
 4. धर्षण

SAFALTA.COM

an initiative by अमर उजाला

Q.12 1946 में, निम्न में से कितने भारतीय संविधान सभा का अंतिम अध्यक्ष बनाया गया था?

- Ans
- 1. धार्ष्टनाथ साय्नाल
 - 2. करोजिनी नायडू
 - 3. सचिदरानंद सिन्हा
 - 4. एस. सुब्रह्मण्यम अय्यर

Q.13 वैदिक भजनों या गानों के संग्रह को _____ कहा जाता है।

- Ans
- 1. संहिता
 - 2. बली
 - 3. ऋषि
 - 4. विदवा

Q.14 यदि कोई वस्तु 10 टोलन प्रति सेकेंड करती है, तो किन्सोर्टन में इसकी आवृत्ति _____ होगी।

- Ans
- 1. 0.1
 - 2. 0.01
 - 3. 10
 - 4. 1

Q.15 बाराबती स्पोर्ट्स स्टेडियम किस राज्य में स्थित है?

- Ans
- 1. ओडिशा
 - 2. असम
 - 3. गोवा
 - 4. हिमाचल प्रदेश

Q.16 निम्न में से कौन-सा बैराज/बांध भारत-बांग्लादेश सीमा के सबसे नजदीक है?

- Ans 1. परसका
 2. तिलैया
 3. मसानजौर
 4. दुर्गापुर

Q.17 निम्न में से कौन-सा विषय भारतीय संविधान की ग्यारवीं सूची में शामिल किया गया है?

- Ans 1. पुलिस और सार्वजनिक व्यवस्था
 2. बड़े पैमाने पर उद्योग
 3. स्वास्थ्य और स्वच्छता
 4. प्रमुख वन उत्पाद

Q.18 किस वर्ष सीधुकोशीन ओलंपिक खेलों में पी.टी. उषा महिलाओं की 400 m बाधा दौड़ में 0.01 सेकंड से कांस्य पदक से चूक गई थीं?

- Ans 1. 1988
 2. 1984
 3. 1992
 4. 1980

SAFALTA.COM

Q.19 राष्ट्रीय एकता के लिए इंदिरा गांधी पुरस्कार _____ द्वारा प्रदान किया जाता है।

- Ans 1. भारतीय राष्ट्रीय कांग्रेस
 2. गृह मंत्रालय, भारत सरकार
 3. इंदिरा गांधी राष्ट्रीय मुक्त विश्वविद्यालय
 4. मानव संसाधन विकास मंत्रालय, भारत सरकार

An initiative by अमर उजाला

Q.20 वर्ष 2018 में 'उद्यम अधिताया' निम्न में से किसके द्वारा शुरू किया गया एक राष्ट्रीय स्तर का उद्यमशीलता जागरूकता अभियान है?

- Ans
- 1. NABARD
 - 2. SIDBI
 - 3. अरुणाचल प्रदेश ग्रामीण बैंक
 - 4. UCO बैंक

Q.21 भारतीय विविध पदधान प्राधिकरण (UIDAI) _____ मंत्रालय के अंतर्गत एक सांख्यिक प्राधिकरण है।

- Ans
- 1. संघार
 - 2. विज्ञान और प्रौद्योगिकी
 - 3. सुचना एवं प्रसारण
 - 4. इलेक्ट्रॉनिकी और सुचना प्रौद्योगिकी

Q.22 पाकिस्तान ICC पुरुष विश्व कप के फाइनल में कितनी बार पहुंचा है?

- Ans
- 1. 3
 - 2. 1
 - 3. 0
 - 4. 2

Q.23 _____ 1975 की रात में, इंदिरा गांधी ने राष्ट्रपति जवाहरलाल नेहरू से अत्याचार से अभ्यासकाल खाने की शिकायत की।

- Ans
- 1. 25 जून
 - 2. 1 जुलाई
 - 3. 22 मई
 - 4. 1 जून

Q.24 पुस्तक 'इंडिया विन्स फ्रीडम' (India Wins Freedom) किसने लिखी?

- Ans
- 1. भगमाजसाद मुकजी
 - 2. मौजाना अबुल कलाम आजाद
 - 3. विजयलक्ष्मी पंडित
 - 4. महारवा गांधी

Q.25 पुस्तक 'द लाइफ डिवान' (The Life Divine) _____ द्वारा लिखी गई थी।

- Ans
- 1. स्वामी विवेकानंद
 - 2. अमृता प्रीतम
 - 3. दयानंद सरस्वती
 - 4. श्री अरवि दो

Q.26 निम्न में से कौन-सा शहर भारत के मुख्य भू-भाग के सुदूर दक्षिणी तिर से सबसे दूर है?

- Ans
- 1. नॉरैड
 - 2. कोडईमनाल
 - 3. बैंगलूर
 - 4. बरंगल

Q.27 वाक्य 'गॉस नेशनल हैप्पीनेस' (Gross National Happiness) पहली बार कहा किसने किया गया था?

- Ans
- 1. नजुलीसैड
 - 2. स्वीडन
 - 3. भूटान
 - 4. भारत

Q.28 मक्का और गन्ने के तने के निचले हिस्से से बाहर आने वाली सहायक जड़ों को क्या कहा जाता है?

- Ans 1. अवशोष जड़
 2. प्राथमिक जड़
 3. सूलियक जड़
 4. प्राय जड़

Q.29 निम्न में से कौन भारत का पहला पुर्नगामी वायुसराय था?

- Ans 1. फ्रांसिस्को डी अल्मेडा (Francisco de Almeida)
 2. डुर्टे डे मेनेजेस (Duarte de Menezes)
 3. अलफोंसो डी अल्बुकर्क (Alfonso de Albuquerque)
 4. लोपो सोएरेस डी अल्बेर्गिया (Lopo Soares de Albergaria)

Q.30 निम्न में से कौन-सा राज्य वर्ष 2000 में बनाया गया था?

- Ans 1. गोवा
 2. सिक्किम
 3. ओडिशा
 4. उत्तराखण्ड

Q.31 30 जून 2020 तक, भारतीय संविधान की प्रस्तावना में _____ संशोधन किया गया है/ किए गए हैं।

- Ans 1. एक बार
 2. तीन बार
 3. दो बार
 4. पाँच बार

Q.32 निम्न में से कौन वर्ष राजकुमार सलीम ने मुगल तख्त पर चढ़ाई की थी?

- Ans 1. 1605
 2. 1558
 3. 1625
 4. 1572

Q.33 निम्न में से कौन-सा शहर कोरोमंडल तट के किनारे स्थित है?

- Ans 1. पुणे/कोरिया
 2. तिरुनेलवेली
 3. तिरुचिपवल्ली
 4. बेल्लोर

Q.34 मंगलच्छों में _____ हाई पेंचर होते हैं।

- Ans 1. पांच
 2. चार
 3. दो
 4. तीन

Q.35 जयप्रकाश नारायण को प्रेरणायुक्त _____ के रूप में जाना जाता है।

- Ans 1. दिवसेंधु
 2. लोकनारायण
 3. दीनसेंधु
 4. राजश्रुति



SAFALTA.COM

An Initiative by अमर उजाला

Q.36 किस व्यक्ति को बीसवीं सदी का डार्विन न (Darwin of the 20th Century) कहा जाता है?

- Ans
- 1. हर्लोसिंग ट सुवन्ना
 - 2. मार्शल कॉलिन पिरेनबर्ग
 - 3. कैथरीन एसाव
 - 4. जर्ज मेयर

Q.37 औपनिवेशिक भारत (Colonial India) के संदर्भ में, हार्टोम कमेटी की रिपोर्ट निम्न में से किस क्षेत्र से संबंधित है?

- Ans
- 1. शहरीकरण
 - 2. सिंचाई
 - 3. शिक्षा
 - 4. स्वास्थ्य

Q.38 किस वर्ष 'मानसूत' को UNESCO द्वारा मानवता की अमूर्त सांस्कृतिक विरासत की प्रतिनिधि सूची में शामिल किया गया था?

- Ans
- 1. 2010
 - 2. 2008
 - 3. 2006
 - 4. 2012

SAFALTA.COM

An Initiative by अमर उजाला

Q.39 निम्न में से कौन-सा शब्द बौद्ध धर्म की वास्तुकला से संबंधित है?

- Ans
- 1. मंदिर
 - 2. मीनार
 - 3. इरमिका
 - 4. स्तूप

Q.40 लोहे की कील कॉपर सल्फेट के घोल में डुबाने के बाद _____ हो जाती है।

- Ans
- 1. नीली
 - 2. बे
 - 3. भूरी
 - 4. हरी

Q.41 निम्न में से कौन-सा जीवाश्म ईंधन (fossil fuel) नहीं है?

- Ans
- 1. बिटुमेन
 - 2. पेट्रोलियम
 - 3. वीथ ईंधन
 - 4. इस्पात

Q.42 'पूठर्म मैकुलम' (Eudermia maculatum) किलरीदार _____ को दिया गया नाम है।

- Ans
- 1. पुता
 - 2. लैमज़ी
 - 3. पसगाट्ट
 - 4. बाज

SAFALTA.COM

Q.43 'सालसाधा' किसका नेपाली नाम है?

- Ans
- 1. साउथ एल्वरेट
 - 2. लोसे
 - 3. केपनजंगा
 - 4. मकानू

An Initiative by अमर उजाला

Q.44 जन संरक्षण के संदर्भ में, नवदय्य आंदोलन (Navadanya Movement) 1987 में _____ के द्वारा शुरु किया गया था।

- Ans
- 1. पांडुरंग हेगड़े
 - 2. मेघा पाटकर
 - 3. बबुआ आस्टे
 - 4. बंदना शिवा

Q.45 निम्न में से किस कवि का उपनाम 'निराला' था?

- Ans
- 1. मैथिलीशरण गुप्त
 - 2. जयशंकर प्रसाद
 - 3. रामधारी सिंघ ठेककर
 - 4. सुरकिशन त्रिपाठी

Q.46 भारत के निम्न में से किस राज्य में प्रत्येक वर्ष 'अंबुबादी-मेला' आयोजित किया जाता है?

- Ans
- 1. केरल
 - 2. त्रिपुकिम
 - 3. असम
 - 4. गुजरात

SAFALTA.COM

Q.47 बोकारो में इस्पात संघ _____ के सहयोग से बनाया गया था। An Initiative by अमर उजाला

- Ans
- 1. प्रसा
 - 2. लोहिया संघ
 - 3. जर्मनी
 - 4. पुनरुद्देष्ट कि गठम

Q.48 भारतीय संविधान का विनम में से कौन-सा अनुच्छेद असभ्यता को समाप्त करता है?

- Ans
- 1. 20
 - 2. 18
 - 3. 17
 - 4. 19

Q.49 आर्सेनिक का रासायनिक प्रतीक क्या है?

- Ans
- 1. Ar
 - 2. As
 - 3. An
 - 4. Ac

Q.50 शीश (Saltpetre) का दूसरा नाम क्या है?

- Ans
- 1. पोटेशियम क्लोराइड
 - 2. सोडियम हाइड्रोसल्फाइड
 - 3. पोटेशियम नाइट्रेट
 - 4. सोडियम क्लोराइड



SAFALTA.COM

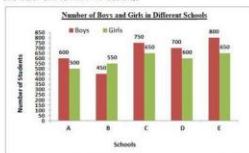
Section : Quantitative Aptitude

An Initiative by अमर उजाला

Q.1 यदि $x^2 - 5x + 1 = 0$ है, तो $(x^4 + \frac{1}{x^2}) \div (x^2 + 1)$ का मान ज्ञात करें।

- Ans
- 1. 21
 - 2. 22
 - 3. 24
 - 4. 25

- Q.2 दिया गया बार चार प्राथमिक विभिन्न विद्यालयों में लड़के और लड़कियों की संख्या को दर्शाता है। बार का अध्ययन करें और उससे संबंधित प्रश्न का उत्तर दें।



किस विद्यालय में लड़कियों की प्रतिशतता न्यूनतम है?

- Ans
- 1. B
 - 2. E
 - 3. C
 - 4. A

- Q.3 दिया गया चक्रे चार्ट किसी संगठन में 450 कर्मचारियों के प्रतिशत वितरण को दर्शाता है। चक्रे चार्ट का अध्ययन करें और उससे संबंधित प्रश्न का उत्तर दें।



विभाग A में कर्मचारियों की संख्या को निर्दिष्ट करने वाले दृश्यांक का कोणीय माप ज्ञात करें।

- Ans
- 1. 108°
 - 2. 72°
 - 3. 36°
 - 4. 90°

Q.4 भूतल पर किसी अश्लेषक चंद्रके की परतोंकी लंबाई 18 m है। यदि उस समय सूर्य का उन्नयन कोण θ इस प्रकार है कि $\cos \theta = \frac{11}{13}$ है, तो चंद्रके की ऊंचाई (m में) ज्ञात करें।

- Ans
- 1. 12
 - 2. 18
 - 3. 7.5
 - 4. 9

Q.5 यदि निम्नोक्त समय में पहले हाउस टैक्स (गृह कर) का अनुमान करने पर, फिर राशि पर 12% की छूट मिलती है। निम्नोक्त समय में पहले टैक्स का अनुमान करने, किसी व्यक्ति को ₹2,100 की छूट मिली। हाउस टैक्स की राशि (₹ में) ज्ञात करें।

- Ans
- 1. 17,500
 - 2. 25,000
 - 3. 18,000
 - 4. 21,000

Q.6 A और B किसी कार्य को 36 दिन में कर सकते हैं। B और C उन्ही कार्य को 60 दिन में कर सकते हैं। A और C उन्ही कार्य को 45 दिन में कर सकते हैं। अतः A उन्ही कार्य को कितने दिन में पूरा करेगा?

- Ans
- 1. 60
 - 2. 120
 - 3. 90
 - 4. 45

SAFALTA.COM
An Initiative by अमर उजाला

Q.7 यदि $x + y + z = 19$, $xyz = 216$ और $xy + yz + zx = 114$ है, तो $x^2 + y^2 + z^2 + xyz$ का मान ज्ञात करें।

- Ans
- 1. 1441
 - 2. 577
 - 3. 1225
 - 4. 361

Q.8 यदि किसी वर्ग के क्षेत्रफल में 19% की कमी हुई, तो वर्ग के विकर्णों में हुई कमी ज्ञात करें।

- Ans
- 1. 5%
 - 2. 10%
 - 3. 15%
 - 4. 12%

Q.9 ₹8,200 की राशि को A, B और C के बीच इस प्रकार विभाजित किया जाता है कि A को B से ₹500 अधिक और C को A से ₹300 अधिक प्राप्त होता है। A का हिस्सा (₹ में) ज्ञात करें।

- Ans
- 1. 3,100
 - 2. 2,800
 - 3. 2,000
 - 4. 2,300

Q.10 9 cm के एक ठोस घाटिक घन और 5 cm, 13 cm, 31 cm विमा (dimensions) वाले ठोस घाटिक घन को पिघाकर एक घन बनाया जाता है। नए घन का कुल पृष्ठीय क्षेत्रफल (cm² में) ज्ञात करें।

- Ans
- 1. 1362
 - 2. 1176
 - 3. 865
 - 4. 2744

SAFALTA.COM
An Initiative by अमर उजाला

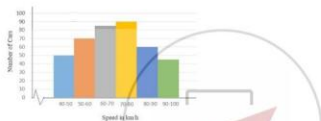
Q.11 दो संख्याओं का अनुपात 7 : 13 है और उनका म.स.प. (HCF) 8 है। उनका ल.स.प. (LCM) ज्ञात करें।

- Ans
- 1. 782
 - 2. 628
 - 3. 872
 - 4. 728

Q.12 कौड़े स्थिति 300 km की दूरी तय करता है और फिर आंशिक बिंदु पर वापस आता है। उसके दबारा जाने में सारा समय, वापस आने में सारा समय से 5 घंटे अधिक है। यदि वह जाने की घारा से 10 km/h की अधिक घारा से वापस लौटता है, तो पूरी घारा के दौरान औसत घारा (km/h में) ज्ञात करे।

- Ans
- 1. 30
 - 2. 15
 - 3. 24
 - 4. 20

Q.13 दिसा सवा डिस्ट्रीबुशन राजमार्ग पर किसे विशेष स्थान से गुजरने वाली कारों की घारा के बारंबारत बंटन (frequency distribution) को दर्शाता है। काक का अनुमान करे और उससे संबंधित सज का उत्तर दे।



70 km/h और 80 km/h के बीच घारा वाली कारों की संख्या, 50 km/h और 60 km/h के बीच घारा वाली कारों की संख्या से किससे अधिक है? (संभावित के एक उत्तर का जरी)

- Ans
- 1. 22.2%
 - 2. 29.7%
 - 3. 15.5%
 - 4. 28.6%

SAFALTA.COM
An Initiative by अमरउजाला

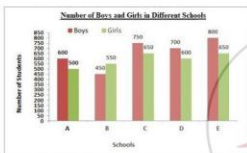
Q.14 यदि वार्षिक साधारण ब्याज की दर 11% से बढ़कर 17 $\frac{1}{2}$ % हो जाती है, तो किसी व्यक्ति की वार्षिक आय ₹1,071.20 तक बढ़ जाती है। निश्चित मूल राशि (₹ में) ज्ञात करे।

- Ans
- 1. 10,710
 - 2. 16,480
 - 3. 19,120
 - 4. 17,250

Q.15 कछे आवतलकर लॉन, त्रिजकी लंकाई उरकी धौड़ाई की टोडुगी हे, त्रिसे इरकी भुजाओं पर चार अर्धचलकर अर्धचलियां बनाने के लिए बहारा जाता हे। पूरे लॉन को 100 प्रति बने मीटर की लवाल से समतल बरवाने के लिए कितने रुपये चरहे होंगे, यदि आवतलकर लॉन की छोटी भुजा की लंकाई 12 m हे। (π = 3.14 ले)

- Ans
- ✓ 1. 85,320
 - ✗ 2. 97,625
 - ✗ 3. 86,540
 - ✗ 4. 78,650

Q.16 दिया गया कार ग्राफ विभिन्न विद्यालयों में लड़के और लड़कियों की संख्या को दर्शाता है। ग्राफ का अध्ययन करें और इससे संबंधित प्रश्न का उत्तर दें।



विद्यालय A, B, C, D और E में लड़कों की औसत संख्या ज्ञात करें।

- Ans
- ✗ 1. 569
 - ✓ 2. 660
 - ✗ 3. 616
 - ✗ 4. 596

SAFALTA.COM
An Initiative by अमरउजाला

Q.17 8%, 15% और 12% की तीन क्रमागत छूट के समतुल्य एकल छूट जात करें।

- Ans
- ✗ 1. 17.5%
 - ✗ 2. 68.816%
 - ✓ 3. 31.184%
 - ✗ 4. 35%

Q.18 $\triangle ABC$ में, $\angle A = 66^\circ$ है। AB और AC क्रमशः बिंदु D और E तक बढ़ाया गया। यदि कोण CBD और BCE के सम-द्विभाजक बिंदु O पर मिलते हैं, तो $\angle BOC$ का माप ज्ञात करें।

- Ans
- 1. 66°
 - 2. 93°
 - 3. 114°
 - 4. 57°

Q.19 किसी समान्तर चतुर्भुज (trapezium) की दो समान्तर भुजाएँ क्रमशः 27 cm और 13 cm हैं। यदि समान्तर चतुर्भुज की ऊँचाई 7 cm है, तो m^2 में इसका क्षेत्रफल ज्ञात करें।

- Ans
- 1. 0.14
 - 2. 1.4
 - 3. 140
 - 4. 0.014

Q.20 यदि $\sec 3x = \operatorname{cosec} (3x - 45^\circ)$ है, जहाँ $3x$ न्यून कोण है, तो x का माप ज्ञात करें।

- Ans
- 1. 27.5°
 - 2. 22.5°
 - 3. 35°
 - 4. 45°

SAFALTA.COM
An Initiative by अमर उजाला

Q.21 यदि A, C का $\frac{1}{6}$ है, B, A का दो गुना है और A, B और C का औसत 30 है, तो A और C के बीच अंतर ज्ञात करें।

- Ans
- 1. 50
 - 2. 60
 - 3. 80
 - 4. 40

Q.22 A और B क्रमशः ₹2,500 और ₹1,12,500 निवेशित करके कोई व्यवसाय शुरू करते हैं। यदि उनके द्वारा प्राप्त लाभ में B का हिस्सा ₹9,000 है, तो उन दोनों के द्वारा प्राप्त कुल लाभ (₹ में) ज्ञात करें।

- Ans
- 1. 20,000
 - 2. 19,000
 - 3. 16,400
 - 4. 21,240

Q.23 $75 \times 73 \times 78 \times 76$ को 34 से विभाजित करने पर प्राप्त शेषफल ज्ञात करें।

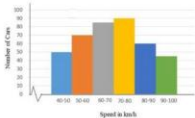
- Ans
- 1. 15
 - 2. 22
 - 3. 18
 - 4. 12

Q.24 माना $\triangle ABC \sim \triangle RPQ$ और $\frac{ar(\triangle ABC)}{ar(\triangle RPQ)} = \frac{4}{9}$ है। यदि $AB = 3$ cm, $BC = 4$ cm और $AC = 5$ cm है, तो PQ का मान (cm में) ज्ञात करें।

- Ans
- 1. 4.5
 - 2. 6
 - 3. 12
 - 4. 5

SAFALTA.COM
An Initiative by अमर उजाला

- Q.25 दिसा गया हिस्टोग्राम राजमार्ग पर किसी विशेष स्थान से गुजरने वाली कारों की घात के बारंबारता वंटन (frequency distribution) को दर्शाता है। साफ़ का अध्ययन करें और उपरोक्त संबंधित प्रश्न का उत्तर दें।



60 km/h से कम घात वाली कारों की संख्या और 80 km/h से अधिक घात वाली कारों की संख्या का अनुपात ज्ञात करें।

- Ans 1. 8 : 7
 2. 7 : 8
 3. 4 : 5
 4. 5 : 4

- Q.26 अक्षांश और दूरीमान द्वारा बताये गए चिह्नों के किनारे की ऊंचाई 9 cm और 16 cm हैं। वे एक-दूसरे से 24 cm की दूरी पर हैं। उनके बीचों-बीच के बीच की दूरी (cm में) ज्ञात करें।

- Ans 1. 7
 2. 16
 3. 25
 4. 24

SAFALTA.COM

An Initiative by **अभिलेख**

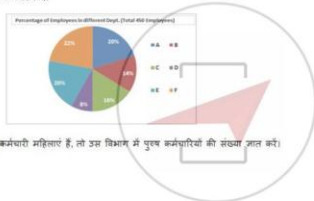
- Q.27 वह छोटी से छोटी संख्या ज्ञात करें, जो 5, 6, 8, 10 और 12 से पूर्णतः विभाज्य है।

- Ans 1. 120
 2. 150
 3. 240
 4. 180

Q.28 दो पाकूप, किरी टकी को कुमरशः 15 घंटे और 4 घंटे में भर सकने हैं जबकि एक तीसरा पाकूप इने 12 घंटे में खाली कर सकत है। यदि तीनों पाकूप एक साथ खुले हों, तो टकी भरने में किनता समय (घंटे में) लगेत?

- Ans
- 1. $\frac{20}{7}$
 - 2. $\frac{30}{7}$
 - 3. $\frac{15}{7}$
 - 4. $\frac{50}{7}$

Q.29 दिया गया पाकू घंटे किरी संगठन में 450 कर्मचारियों के प्रतिशत बंटन को दर्शात है। पाकू घंटे में अपघटन की और उसके संबंधित परम का उत्तर दें।



यदि E विभाग के 60% कर्मचारी महिलाएं हैं, तो उस विभाग में पुरुष कर्मचारियों की संख्या ज्ञत की।

- Ans
- 1. 72
 - 2. 54
 - 3. 18
 - 4. 36

SAFALTA.COM
An Initiative by अमर उजाला

Q.30 अलग-अलग परिचालित होने पर, किरी टकी को भरने में पाकूप A को पाकूप B से 5 घंटा कम लगत है, और जब दोनों पाकूप एक साथ परिचालित होने हैं, तो टकी 6 घंटे में भर जाती है। यदि पाकूप B अकेले परिचालित है, तो इनेके द्वारा टकी को भरने में लगने वाला समय (घंटे में) ज्ञत की।

- Ans
- 1. 10
 - 2. 15
 - 3. 9
 - 4. 18

Q.31 किसी व्यक्ति का मासिक वेतन ₹50,000 है। जिसे वह पारिवारिक खर्चे (E), भ्रम (T), टाउन (C) में व्यय करता है और शेष राशि बचाता है। E अन्य का 60%, T, E का 20% और C, T का 15% है। जब उसकी आय में 40% की वृद्धि हुई, उसने E का प्रतिशत पूर्ववत् रखने दिया लेकिन T, E का 30% और C, T का 20% कर दिया। टाउनो बचत के बीच अंतर (र में) ज्ञात करें।

- Ans
- 1. 130
 - 2. 220
 - 3. 128
 - 4. 250

Q.32 $3\frac{1}{3} \div 2\frac{1}{2}$ of $1\frac{3}{5} + \left(\frac{3}{8} + \frac{1}{7} \times 1\frac{3}{4}\right)$ का मान ज्ञात करें।

- Ans
- 1. $\frac{35}{24}$
 - 2. $\frac{55}{24}$
 - 3. $\frac{25}{24}$
 - 4. $\frac{5}{24}$



Q.33 किसी धनराशि पर 17% की ब्याज दर से 2 वर्षों में सापेक्ष चक्रवृद्धि ब्याज और साधारण ब्याज के बीच का अंतर ₹433.50 है (यदि ब्याज की गणना वार्षिक चक्रवृद्धि आधार पर होती है), तो राशि (र में) ज्ञात करें।

- Ans
- 1. 15,000
 - 2. 25,000
 - 3. 12,000
 - 4. 20,000

SAPALTA.COM
An Initiative by अमर उजाला

Q.34 किसी कक्षा के विद्यार्थी ₹2,200 की राशि टाउन करते हैं। यदि पर्येक विद्यार्थी ने उतने ही रुपये टाउन किए जिसने कि कक्षा में विद्यार्थियों की संख्या है, तो कक्षा में विद्यार्थियों की संख्या ज्ञात की।

- Ans
- 1. 51
 - 2. 49
 - 3. 47
 - 4. 53

Q.35 कोई व्यक्ति एक बस्तु खरीदता है और उसे 10% के लाभ पर बेचता है। यदि वह बस्तु को 20% कम मूल्य पर खरीदता और उसे ₹1,000 अधिक में बेचता, तो उसे 40% का लाभ होता। बस्तु का क्रय मूल्य (₹ में) ज्ञात की।

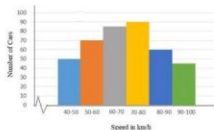
- Ans
- 1. 60,000
 - 2. 25,000
 - 3. 50,000
 - 4. 40,000

Q.36 तीन व्यक्ति A, B और C वाले बस्तु का औसत वजन 70 kg है। जब D इस बस्तु में शामिल होता है, तो औसत 60 kg हो जाता है। एक व्यक्ति E जिसका वजन D के वजन से 5 kg अधिक है, A को प्रतिस्थापित करता है और अब B, C, D और E का औसत वजन 59 kg हो जाता है। A का वजन (kg में) ज्ञात की।

- Ans
- 1. 50
 - 2. 40
 - 3. 39
 - 4. 59

SAFALTA.COM
An Initiative by अमर उजाला

- Q.37 दिया गया हिस्टोग्राम राजमार्ग पर किसी विशेष स्थान से गुजरने वाली कारों की घास के भारों का वितरण (frequency distribution) को दर्शाता है। घास का अध्ययन करें और उससे संबंधित चयन का उत्तर दें।



70 km/h से कम घास पर घूमने वाली कारों का प्रतिशत ज्ञात करें।

- Ans
- 1. 60%
 - 2. 51.25%
 - 3. 45.75%
 - 4. 30%

- Q.38 बर्तमान में जिस छात्र को 229 प्रति kg की दर से बीघा जा रहा है, पिछले महीने उसका मूल्य 125 प्रति kg था। किसी परिवार को अपने छात्र की छपत को कितने प्रतिशत तक कम करना होगा, ताकि वयव पहले के समान रहे? (निकटतम पूर्णांक तक सही)

- Ans
- 1. 12%
 - 2. 14%
 - 3. 13%
 - 4. 15%

SAFALTA.COM
An Initiative by अमरउजाला

- Q.39 X, किसी कार्य को 3 दिन में कर सकता है, Y उसी कार्य को तीन गुने को 8 दिन में कर सकता है और Z उसी कार्य को पांच गुने को 12 दिन में कर सकता है। यदि वे एक साथ प्रतिदिन 6 घंटे कार्य करते हैं, तो उनके द्वारा कार्य को पूरा करने में लगने वाला समय ज्ञात करें।

- Ans
- 1. 5 घंटा
 - 2. 4 घंटा 10 मिनट
 - 3. 4 घंटा
 - 4. 5 घंटा 20 मिनट

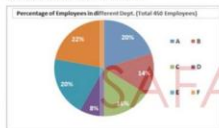
Q.40 $\frac{0.325 \times 0.325 + 0.175 \times 0.175 + 25 \times 0.00455}{5 \times 0.0065 \times 3.25 - 7 \times 0.175 \times 0.025} - \frac{0.5}{1.5}$ का मान ज्ञात करें।

- Ans
- 1. 3
 - 2. -1
 - 3. -3
 - 4. 0

Q.41 यदि $x^2 + 8y^2 - 12y - 4xy + 9 = 0$ है, तो $(7x - 8y)$ का मान ज्ञात करें।

- Ans
- 1. 12
 - 2. 5
 - 3. 21
 - 4. 9

Q.42 दिया गया पाँच घाटे विक्री संगठन में 450 कर्मचारियों के प्रतिशत वेंचन को दर्शाता है। पाँच घाटे का अर्थव्यय करें और उनसे संबंधित प्रश्न का उत्तर दें।



B विभाग में कार्य करने वाले कर्मचारियों की संख्या ज्ञात करें।

- Ans
- 1. 72
 - 2. 36
 - 3. 63
 - 4. 90

SAFALTA.COM
An Initiative by अमर उजाला

Q.43 PA और PB, O केंद्र वाले वृत्त के बाह्य बिंदु P से खींची गई दो स्पर्श रेखाएँ हैं। यदि वृत्त पर बिंदु A और B इस प्रकार स्थित हैं कि $\angle APB = 100^\circ$ है, तो $\angle OAB$ का माप ज्ञात करें।

- Ans
- 1. 35°
 - 2. 50°
 - 3. 45°
 - 4. 70°

Q.44 यदि किसी वक्रिये का व्यास 42 cm है, तो यह 12 परवर्तों में कितनी दूर (मीटर में) जाएगा? ($\pi = \frac{22}{7}$)

- Ans
- 1. 17.64
 - 2. 21.45
 - 3. 15.84
 - 4. 23.27

Q.45 किसी व्यक्ति का वेतन ₹8,100 से बढ़कर ₹9,000 हो जाता है। उसके वेतन में हुई प्रतिशत वृद्धि ज्ञात करें।

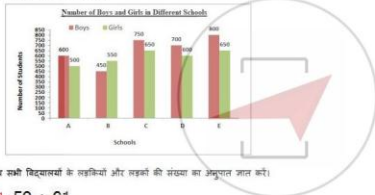
- Ans
- 1. $13\frac{7}{9}\%$
 - 2. $11\frac{1}{9}\%$
 - 3. $9\frac{1}{9}\%$
 - 4. $6\frac{1}{9}\%$

SAFALTA.COM
An Initiative by अमर उजाला

Q.46 $\frac{\sin^2 30^\circ + \cos^2 60^\circ - \sec 35^\circ \cdot \sin 55^\circ}{\sec 60^\circ + \operatorname{cosec} 30^\circ}$ का मान ज्ञात करें।

- Ans
- 1. $\frac{1}{4}$
 - 2. $\frac{1}{8}$
 - 3. $\frac{1}{4}$
 - 4. $\frac{1}{8}$

Q.47 दिए गए बार चार्ट विभिन्न विद्यालयों में लड़के और लड़कियों की संख्या को दर्शाता है। बार का अनुपात ज्ञात करें और उससे संबंधित परम का उत्तर दें।



- Ans
- 1. 59 : 61
 - 2. 66 : 59
 - 3. 61 : 59
 - 4. 59 : 66

SAFALTA.COM
An Initiative by अमर उजाला

Q.48 $\left(5\frac{1}{4} + 3\frac{7}{8} \text{ of } \frac{1}{2}\right) + \left(5\frac{1}{9} - 7\frac{7}{8} + 9\frac{9}{20}\right) \times \frac{11}{21} - \left(5 + 2 \text{ of } \frac{1}{2}\right)$ का मान ज्ञात करें।

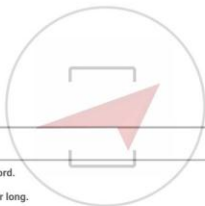
- Ans
- 1. $\frac{35}{24}$
 - 2. 0
 - 3. -2
 - 4. $\frac{15}{28}$

Q.49 कोई बस 50 km की दूरी 1 घंटा 15 मिनट में तय करती है, जबकि कोई कार उसी दूरी को 45 मिनट में तय करती है। बस की गति और कार की गति का अनुपात ज्ञान करें।

- Ans
- 1. 5 : 3
 - 2. 1 : 3
 - 3. 3 : 1
 - 4. 3 : 5

Q.50 कोई चतुर्भुज ABCD इस प्रकार है कि AB इसके अंदर बने कोण का व्यास है और $\angle ADC = 148^\circ$ है। $\angle BAC$ का मान ज्ञान करें।

- Ans
- 1. 58°
 - 2. 32°
 - 3. 45°
 - 4. 60°



Section : English Comprehension

Q.1 Fill in the blank with the most appropriate word.

The doctor often made his patients _____ for long.

- Ans
- 1. waiting
 - 2. wait
 - 3. waited
 - 4. to wait

SAFALTA.COM
An Initiative by अमर उजाला

Q.2 Fill in the blank with the most appropriate word.

She has inherited her fondness _____ tennis from her parents.

- Ans
- 1. for
 - 2. to
 - 3. by
 - 4. at

Q.3 Select the most appropriate ANTONYM of the given word.

SPIRITUAL

- Ans
- 1. material
 - 2. divine
 - 3. sacred
 - 4. ethereal

Q.4 Select the most appropriate ANTONYM of the given word.

IMPUDENT

- Ans
- 1. brazen
 - 2. modest
 - 3. blatant
 - 4. arrant

Q.5 Select the most appropriate option to substitute the underlined segment in the given sentence. If there is no need to substitute it, select 'No substitution required'.

I want to learn yoga when I was in school.

- Ans
- 1. used to
 - 2. No substitution required
 - 3. need to
 - 4. ought to

SAFALTA.COM
An Initiative by अमर उजाला

Q.6 Select the most appropriate one-word substitution for the given group of words.

One who is easily deceived

- Ans
- 1. plausible
 - 2. agreeable
 - 3. gullible
 - 4. credible

Q.7 Identify the segment in the sentence which contains a grammatical error.

Do you earn so much to make both ends meet?

- Ans
- 1. so much to
 - 2. ends meet
 - 3. Do you earn
 - 4. make both

Q.8 Select the most appropriate meaning of the given idiom.

Speak one's mind

- Ans
- 1. to voice one's thoughts plainly
 - 2. to put one's thoughts in writing
 - 3. to speak in an assembly
 - 4. to speak without thinking

Q.9 Fill in the blank with the most appropriate word.

_____! What have you done to your hair? You are looking so odd.

- Ans
- 1. Bravo
 - 2. Goodness gracious
 - 3. Hurrah
 - 4. Bother

SAFALTA.COM
An Initiative by अमर उजाला

Q.10 Select the most appropriate synonym of the given word.

CONDONE

- Ans
- 1. prevent
 - 2. impose
 - 3. forgive
 - 4. forbid

Q.11 Identify the segment in the sentence which contains a grammatical error.

Nobody has ever listened to me so attentive.

- Ans
- 1. so attentive
 - 2. Nobody has
 - 3. to me
 - 4. ever listened

Q.12 Select the misspelt word.

- Ans
- 1. unique
 - 2. usearp
 - 3. impeach
 - 4. implore

Q.13 Select the most appropriate synonym of the given word.

CATASTROPHE

- Ans
- 1. prosperity
 - 2. calamity
 - 3. expansion
 - 4. restraint

SAFALTA.COM
An Initiative by अमर उजाला

Q.14 Select the most appropriate one-word substitution for the given group of words.

A person with the same name as another

- Ans
- 1. alias
 - 2. ancestor
 - 3. imposter
 - 4. namesake

Q.15 Select the most appropriate one-word substitution for the given group of words.

One who changes sides

- Ans
- 1. invader
 - 2. novice
 - 3. amateur
 - 4. turncoat

Comprehension:

In the following passage some words have been deleted. Fill in the blanks with the help of the alternatives given. Select the most appropriate option for each number.

The Amazon is the world's largest tropical rainforest. It is (1) _____ the size of the continent of Australia and covers (2) _____ area of nearly 2.8 million square miles. The Amazon rainforest gets its life from the (3) _____ Amazon River which runs through the heart (4) _____ the region. The rainforest is simply the drained basin for the river and its (5) _____. The vast forest consists of four layers, each featuring its own ecosystems and specially adapted plants and animals.

SubQuestion No : 16

Q.16 Select the most appropriate option to fill in blank no. 1.

- Ans
- 1. roughly
 - 2. similarly
 - 3. totally
 - 4. specially



Comprehension:

In the following passage some words have been deleted. Fill in the blanks with the help of the alternatives given. Select the most appropriate option for each number.

The Amazon is the world's largest tropical rainforest. It is (1) _____ the size of the continent of Australia and covers (2) _____ area of nearly 2.8 million square miles. The Amazon rainforest gets its life from the (3) _____ Amazon River which runs through the heart (4) _____ the region. The rainforest is simply the drained basin for the river and its (5) _____. The vast forest consists of four layers, each featuring its own ecosystems and specially adapted plants and animals.

SubQuestion No : 17

Q.17 Select the most appropriate option to fill in blank no. 2.

- Ans
- 1. an
 - 2. some
 - 3. a
 - 4. one

Comprehension:

In the following passage some words have been deleted. Fill in the blanks with the help of the alternatives given. Select the most appropriate option for each number.

The Amazon is the world's largest tropical rainforest. It is (1) _____ the size of the continent of Australia and covers (2) _____ area of nearly 2.8 million square miles. The Amazon rainforest gets its life from the (3) _____ Amazon River which runs through the heart (4) _____ the region. The rainforest is simply the drained basin for the river and its (5) _____. The vast forest consists of four layers, each featuring its own ecosystems and specially adapted plants and animals.

SubQuestion No : 18

Q.18 Select the most appropriate option to fill in blank no. 3.

- Ans
- 1. magnetic
 - 2. minor
 - 3. majestic
 - 4. major

Comprehension:

In the following passage some words have been deleted. Fill in the blanks with the help of the alternatives given. Select the most appropriate option for each number.

The Amazon is the world's largest tropical rainforest. It is (1) _____ the size of the continent of Australia and covers (2) _____ area of nearly 2.8 million square miles. The Amazon rainforest gets its life from the (3) _____ Amazon River which runs through the heart (4) _____ the region. The rainforest is simply the drained basin for the river and its (5) _____. The vast forest consists of four layers, each featuring its own ecosystems and specially adapted plants and animals.

SubQuestion No : 19

Q.19 Select the most appropriate option to fill in blank no. 4.

- Ans
- 1. on
 - 2. of
 - 3. at
 - 4. in

Comprehension:

In the following passage some words have been deleted. Fill in the blanks with the help of the alternatives given. Select the most appropriate option for each number.

The Amazon is the world's largest tropical rainforest. It is (1)_____ the size of the continent of Australia and covers (2)_____ area of nearly 2.8 million square miles. The Amazon rainforest gets its life from the (3)_____ Amazon River which runs through the heart (4)_____ the region. The rainforest is simply the drained basin for the river and its (5)_____. The vast forest consists of four layers, each featuring its own ecosystems and specially adapted plants and animals.

SubQuestion No : 20

Q.20 Select the most appropriate option to fill in blank no. 5.

- Ans
- 1. tributes
 - 2. tributaries
 - 3. rainforests
 - 4. continents

Q.21 Identify the segment in the sentence which contains a grammatical error.

I remember a friend to me buying several pairs of shoes at a sale.

- Ans
- 1. a friend to me
 - 2. buying several pairs
 - 3. of shoes at a sale
 - 4. I remember

Q.22 Identify the segment in the sentence which contains a grammatical error.

He wondered what was the reason for her refusal to accompany him.

- Ans
- 1. to accompany him
 - 2. was the reason
 - 3. for her refusal
 - 4. He wondered what

Q.23 Select the most appropriate synonym of the given word.

CONCEITED

- Ans
- 1. tentative
 - 2. diffident
 - 3. inferior
 - 4. arrogant

Q.24 Select the most appropriate synonym of the given word.

CORDIAL

- Ans
- 1. rude
 - 2. friendly
 - 3. cold
 - 4. aloof

Q.25 Select the most appropriate one-word substitution for the given group of words.

Study of environment

- Ans
- 1. ecology
 - 2. radiology
 - 3. cosmology
 - 4. pathology

SAFALTA.COM
An Initiative by अमर उजाला

Q.26 Identify the segment in the sentence which contains a grammatical error.

Our new secretary's performance have been quite impressive.

- Ans
- 1. Our new
 - 2. quite impressive
 - 3. secretary's performance
 - 4. have been

Q.27 Select the most appropriate meaning of the given idiom.

Walking on thin ice

- Ans
- 1. slipping on ice
 - 2. performing a ballet
 - 3. walking carefully
 - 4. doing something risky

Q.28 Select the most appropriate ANTONYM of the given word.

DISHEARTEN

- Ans
- 1. dampen
 - 2. humble
 - 3. encourage
 - 4. indispose



Q.29 Select the misspelt word.

- Ans
- 1. existance
 - 2. proceed
 - 3. separate
 - 4. dependent

SAFALTA.COM

An Initiative by अमर उजाला

Q.30 Select the misspelt word.

- Ans
- 1. acquaint
 - 2. superceed
 - 3. restaurant
 - 4. spectacles

Q.31 Fill in the blank with the most appropriate word.

_____ Sunny, two others have qualified for the final round of the quiz.

- Ans
- 1. Apart
 - 2. Between
 - 3. Along
 - 4. Besides

Q.32 Select the most appropriate synonym of the given word.

ABSURD

- Ans
- 1. important
 - 2. ridiculous
 - 3. meaningful
 - 4. rational

Q.33 Select the most appropriate option to substitute the underlined segment in the given sentence. If there is no need to substitute it, select 'No substitution required'.

The young man lifts weights at the gym when he pulled a muscle.

- Ans
- 1. has lifted
 - 2. is lifting
 - 3. was lifting
 - 4. No substitution required

SAFALTA.COM
An Initiative by अमर उजाला

Q.34 Fill in the blank with the most appropriate word.

This is one of the matters that _____ me the most.

- Ans
- 1. are disturbing
 - 2. is disturbed
 - 3. disturbs
 - 4. has disturb

Q.35 Select the most appropriate option to substitute the underlined segment in the given sentence. If there is no need to substitute it, select 'No substitution required'.

India have a many all-rounders to match the talent and dedication of Kapil Dev.

- Ans
- 1. No substitution required
 - 2. is having little
 - 3. has much
 - 4. has few

Q.36 Select the most appropriate meaning of the given idiom.

Know like the back of one's hand

- Ans
- 1. to be unaware of the situation
 - 2. to have detailed knowledge of something
 - 3. to hit someone with the back of one's hand
 - 4. to copy another's trade secrets

Q.37 Select the most appropriate ANTONYM of the given word.

PRESTIGE

- Ans
- 1. repute
 - 2. disregard
 - 3. renown
 - 4. dignity

SAFALTA.COM
An Initiative by अमर उजाला

Q.38 Select the misspelt word.

- Ans
- 1. virtually
 - 2. eventually
 - 3. infinity
 - 4. immediately

Q.39 Select the most appropriate option to substitute the underlined segment in the given sentence. If there is no need to substitute it, select 'No substitution required'.

When challenged, the man had no answer for his actions.

- Ans
- 1. When to be challenged
 - 2. No substitution required
 - 3. While challenges
 - 4. When in challenge

Q.40 Select the most appropriate option to substitute the underlined segment in the given sentence. If there is no need to substitute it, select 'No substitution required'.

She walked among me without greeting me.

- Ans
- 1. past me
 - 2. about me
 - 3. No substitution required
 - 4. over me

Q.41 Select the most appropriate meaning of the given idiom.

Grin from ear to ear

- Ans
- 1. to ridicule someone
 - 2. to have very sharp ears
 - 3. to make funny faces
 - 4. to smile a lot because of happiness

Q.42 Select the most appropriate one-word substitution for the given group of words.

A person who is unduly anxious about his/her health

- Ans
- 1. disciplinarian
 - 2. egalitarian
 - 3. valetudinarian
 - 4. antiquarian

Q.43 Select the misspelt word.

- Ans
- 1. dilemma
 - 2. lustrous
 - 3. succinct
 - 4. enigmatic

Q.44 Select the most appropriate ANTONYM of the given word.

EXASPERATION

- Ans
- 1. resentment
 - 2. enjoyment
 - 3. wrath
 - 4. pique

Q.45 Select the most appropriate meaning of the given idiom.

Once bitten twice shy

- Ans
- 1. a bitter experience making one cautious for future
 - 2. to be shy of meeting strangers
 - 3. a person with no self confidence
 - 4. an insect bite that leaves a permanent mark

SAFALTA.COM

An Initiative by अमर उजाला

Comprehension:

Read the given passage and answer the questions that follow.

"The two great empires of Lilliput and Blefuscu have been engaged in a most obstinate war for six-and-thirty moons past. It began upon the following occasion. It is allowed on all hands that the primitive way of breaking eggs, before we eat them, was upon the larger end; but his present majesty's grandfather, while he was a boy, going to eat an egg, and breaking it according to the ancient practice, happened to cut one of his fingers. Whereupon the emperor his father published an edict, commanding all his subjects, upon great penalties, to break the smaller end of their eggs. The people so highly resented this law, that our histories tell us, there have been six rebellions raised on that account; wherein one emperor lost his life, and another his crown. These civil commotions were constantly fomented by the monarchs of Blefuscu; and when they were quelled, the exiles always fled for refuge to that empire. It is computed that eleven thousand persons have at several times suffered death, rather than submit to break their eggs at the smaller end. Many hundred large volumes have been published upon this controversy; but the books of the Big-endians have been long forbidden, and the whole party rendered incapable by law of holding employments. During the course of these troubles, the emperors of Blefuscu did frequently expostulate by their ambassadors, accusing us of making a schism in religion, by offending against a fundamental doctrine of our great prophet Lustrug. This, however, is thought to be a mere strain upon the text; for the words are these: 'that all true believers break their eggs at the convenient end.' And which is the convenient end, seems, in my humble opinion to be left to every man's conscience, or at least in the power of the chief magistrate to determine. Now, the Big-endian exiles have found so much credit in the emperor of Blefuscu's court, and so much private assistance and encouragement from their party here at home, that a bloody war has been carried on between the two empires for six-and-thirty moons, with various success; during which time we have lost forty capital ships, and a much greater number of smaller vessels, together with thirty thousand of our best seamen and soldiers; and the damage received by the enemy is reckoned to be somewhat greater than ours. However, they have now equipped a numerous fleet, and are just preparing to make a descent upon us; and his imperial majesty, placing great confidence in your valour and strength, has commanded me to lay this account of his affairs before you." Thus spoke the Principal Secretary.

I desired the secretary to present my humble duty to the emperor; and to let him know that I thought it would not become me, who was a foreigner, to interfere with parties; but I was ready, with the hazard of my life, to defend his person and state against all invaders.

SubQuestion No : 46

Q.46 What was the result of the edict published by the emperor of Lilliput's great grandfather?

- Ans**
- 1. People attacked the emperor and overthrew him
 - 2. People rebelled against the new law
 - 3. People readily agreed to follow his command
 - 4. People abandoned Lilliput and left for Blefuscu

Comprehension:

Read the given passage and answer the questions that follow.

"The two great empires of Lilliput and Blefuscu have been engaged in a most obstinate war for six-and-thirty moons past. It began upon the following occasion. It is allowed on all hands that the primitive way of breaking eggs, before we eat them, was upon the larger end; but his present majesty's grandfather, while he was a boy, going to eat an egg, and breaking it according to the ancient practice, happened to cut one of his fingers. Whereupon the emperor his father published an edict, commanding all his subjects, upon great penalties, to break the smaller end of their eggs. The people so highly resented this law, that our histories tell us, there have been six rebellions raised on that account; wherein one emperor lost his life, and another his crown. These civil commotions were constantly fomented by the monarchs of Blefuscu; and when they were quelled, the exiles always fled for refuge to that empire. It is computed that eleven thousand persons have at several times suffered death, rather than submit to break their eggs at the smaller end. Many hundred large volumes have been published upon this controversy: but the books of the Big-endians have been long forbidden, and the whole party rendered incapable by law of holding employments. During the course of these troubles, the emperors of Blefuscu did frequently expostulate by their ambassadors, accusing us of making a schism in religion, by offending against a fundamental doctrine of our great prophet Lustrig. This, however, is thought to be a mere strain upon the text; for the words are these: 'that all true believers break their eggs at the convenient end.' And which is the convenient end, seems, in my humble opinion to be left to every man's conscience, or at least in the power of the chief magistrate to determine. Now, the Big-endian exiles have found so much credit in the emperor of Blefuscu's court, and so much private assistance and encouragement from their party here at home, that a bloody war has been carried on between the two empires for six-and-thirty moons, with various success; during which time we have lost forty capital ships, and a much greater number of smaller vessels, together with thirty thousand of our best seamen and soldiers; and the damage received by the enemy is reckoned to be somewhat greater than ours. However, they have now equipped a numerous fleet, and are just preparing to make a descent upon us; and his imperial majesty, placing great confidence in your valour and strength, has commanded me to lay this account of his affairs before you." Thus spoke the Principal Secretary.

I desired the secretary to present my humble duty to the emperor; and to let him know that I thought it would not become me, who was a foreigner, to interfere with parties: but I was ready, with the hazard of my life, to defend his person and state against all invaders.

SubQuestion No : 47

Q.47 Which of the following statements is NOT true?

- Ans
- 1. The Big-endians found refuge at Blefuscu.
 - 2. The two empires had been at war for thirty-six moons.
 - 3. The doctrine of Prophet Lustrig mentions the 'convenient end' of the eggs.
 - 4. The narrator refuses to defend the emperor against the invaders.

Comprehension:

Read the given passage and answer the questions that follow.

"The two great empires of Lilliput and Blefuscu have been engaged in a most obstinate war for six-and-thirty moons past. It began upon the following occasion. It is allowed on all hands that the primitive way of breaking eggs, before we eat them, was upon the larger end; but his present majesty's grandfather, while he was a boy, going to eat an egg, and breaking it according to the ancient practice, happened to cut one of his fingers. Whereupon the emperor his father published an edict, commanding all his subjects, upon great penalties, to break the smaller end of their eggs. The people so highly resented this law, that our histories tell us, there have been six rebellions raised on that account; wherein one emperor lost his life, and another his crown. These civil commotions were constantly fomented by the monarchs of Blefuscu; and when they were quelled, the exiles always fled for refuge to that empire. It is computed that eleven thousand persons have at several times suffered death, rather than submit to break their eggs at the smaller end. Many hundred large volumes have been published upon this controversy; but the books of the Big-endians have been long forbidden, and the whole party rendered incapable by law of holding employments. During the course of these troubles, the emperors of Blefuscu did frequently expostulate by their ambassadors, accusing us of making a schism in religion, by offending against a fundamental doctrine of our great prophet Lustrug. This, however, is thought to be a mere strain upon the text; for the words are these: 'that all true believers break their eggs at the convenient end.' And which is the convenient end, seems, in my humble opinion to be left to every man's conscience, or at least in the power of the chief magistrate to determine. Now, the Big-endian exiles have found so much credit in the emperor of Blefuscu's court, and so much private assistance and encouragement from their party here at home, that a bloody war has been carried on between the two empires for six-and-thirty moons, with various success; during which time we have lost forty capital ships, and a much greater number of smaller vessels, together with thirty thousand of our best seamen and soldiers; and the damage received by the enemy is reckoned to be somewhat greater than ours. However, they have now equipped a numerous fleet, and are just preparing to make a descent upon us; and his imperial majesty, placing great confidence in your valour and strength, has commanded me to lay this account of his affairs before you." Thus spoke the Principal Secretary.

I desired the secretary to present my humble duty to the emperor; and to let him know that I thought it would not become me, who was a foreigner, to interfere with parties; but I was ready, with the hazard of my life, to defend his person and state against all invaders.

SubQuestion No : 48

Q.48 What inference can be drawn from the narrative?

- Ans 1. Wars may be waged over very trivial issues.
2. A peaceful solution to the problem is possible.
3. One should remain loyal to the monarchs.
4. It is important to follow rules.

Comprehension:

Read the given passage and answer the questions that follow.

"The two great empires of Lilliput and Blefuscu have been engaged in a most obstinate war for six-and-thirty moons past. It began upon the following occasion. It is allowed on all hands that the primitive way of breaking eggs, before we eat them, was upon the larger end; but his present majesty's grandfather, while he was a boy, going to eat an egg, and breaking it according to the ancient practice, happened to cut one of his fingers. Whereupon the emperor his father published an edict, commanding all his subjects, upon great penalties, to break the smaller end of their eggs. The people so highly resented this law, that our histories tell us, there have been six rebellions raised on that account, wherein one emperor lost his life, and another his crown. These civil commotions were constantly fomented by the monarchs of Blefuscu, and when they were quelled, the exiles always fled for refuge to that empire. It is computed that eleven thousand persons have at several times suffered death, rather than submit to break their eggs at the smaller end. Many hundred large volumes have been published upon this controversy: but the books of the Big-endians have been long forbidden, and the whole party rendered incapable by law of holding employments. During the course of these troubles, the emperors of Blefuscu did frequently expostulate by their ambassadors, accusing us of making a schism in religion, by offending against a fundamental doctrine of our great prophet Lustrug. This, however, is thought to be a mere strain upon the text; for the words are these: 'that all true believers break their eggs at the convenient end.' And which is the convenient end, seems, in my humble opinion to be left to every man's conscience, or at least in the power of the chief magistrate to determine. Now, the Big-endian exiles have found so much credit in the emperor of Blefuscu's court, and so much private assistance and encouragement from their party here at home, that a bloody war has been carried on between the two empires for six-and-thirty moons, with various success; during which time we have lost forty capital ships, and a much greater number of smaller vessels, together with thirty thousand of our best seamen and soldiers; and the damage received by the enemy is reckoned to be somewhat greater than ours. However, they have now equipped a numerous fleet, and are just preparing to make a descent upon us; and his imperial majesty, placing great confidence in your valour and strength, has commanded me to lay this account of his affairs before you." Thus spoke the Principal Secretary.

I desired the secretary to present my humble duty to the emperor; and to let him know that I thought it would not become me, who was a foreigner, to interfere with parties; but I was ready, with the hazard of my life, to defend his person and state against all invaders.

SubQuestion No : 49

Q.49 The empires of Lilliput and Blefuscu are:

- Ans
- 1. ruled by one emperor
 - 2. cordial and friendly neighbours
 - 3. hostile towards each other
 - 4. ready to compromise with each other

STUDYFALTA.COM
An Initiative by **अमर उजाला**

Comprehension:

Read the given passage and answer the questions that follow.

"The two great empires of Lilliput and Blefuscu have been engaged in a most obstinate war for six-and-thirty moons past. It began upon the following occasion. It is allowed on all hands that the primitive way of breaking eggs, before we eat them, was upon the larger end; but his present majesty's grandfather, while he was a boy, going to eat an egg, and breaking it according to the ancient practice, happened to cut one of his fingers. Whereupon the emperor his father published an edict, commanding all his subjects, upon great penalties, to break the smaller end of their eggs. The people so highly resented this law, that our histories tell us, there have been six rebellions raised on that account; wherein one emperor lost his life, and another his crown. These civil commotions were constantly fomented by the monarchs of Blefuscu; and when they were quelled, the exiles always fled for refuge to that empire. It is computed that eleven thousand persons have at several times suffered death, rather than submit to break their eggs at the smaller end. Many hundred large volumes have been published upon this controversy: but the books of the Big-endians have been long forbidden, and the whole party rendered incapable by law of holding employments. During the course of these troubles, the emperors of Blefuscu did frequently expostulate by their ambassadors, accusing us of making a schism in religion, by offending against a fundamental doctrine of our great prophet Lustrug. This, however, is thought to be a mere strain upon the text; for the words are these: 'that all true believers break their eggs at the convenient end.' And which is the convenient end, seems, in my humble opinion to be left to every man's conscience, or at least in the power of the chief magistrate to determine. Now, the Big-endian exiles have found so much credit in the emperor of Blefuscu's court, and so much private assistance and encouragement from their party here at home, that a bloody war has been carried on between the two empires for six-and-thirty moons, with various success; during which time we have lost forty capital ships, and a much greater number of smaller vessels, together with thirty thousand of our best seamen and soldiers; and the damage received by the enemy is reckoned to be somewhat greater than ours. However, they have now equipped a numerous fleet, and are just preparing to make a descent upon us; and his imperial majesty, placing great confidence in your valour and strength, has commanded me to lay this account of his affairs before you." Thus spoke the Principal Secretary.

I desired the secretary to present my humble duty to the emperor; and to let him know that I thought it would not become me, who was a foreigner, to interfere with parties; but I was ready, with the hazard of my life, to defend his person and state against all invaders.

SubQuestion No : 50

Q.50 What was the primitive way of eating eggs in Lilliput?

- Ans
- 1. Breaking in the middle
 - 2. Breaking at the smaller end
 - 3. Breaking at the larger end
 - 4. Eating it whole

SAFALTA.COM

An Initiative by अमर उजाला