

6

Figures Construction Test आकृति निर्माण परीक्षण

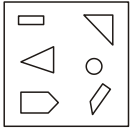
In this chapter, questions are formed by combining simple small figures. You have to find the main figure from these small figures. The figure formed by the given components show the sample figure and you have to identify the single figure made of all the figures given in the question.

इस अध्याय में इस प्रकार के प्रश्न छोटी-छोटी सरल आकृतियों के संयोजन से निर्मित होती हैं। इन्हीं आकृतियों में से निर्मित मुख्य आकृति को आपको छँटना होता है। दिए गए अवयवों के साथ बनी आकृति नमूने को प्रदर्शित करती हैं अर्थात् प्रश्न में दी गई सभी आकृतियों से बनी एकल आकृति को आपको पहचानना होता है।

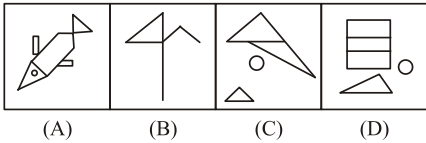
EXERCISE

1. Which answer figure includes all the components given in the question figure?
प्रश्न आकृति में अलग-अलग दिए गए अवयवों से मिलकर कौन-सी उत्तर आकृति बनती है?

Question figures / प्रश्न आकृतियाँ:

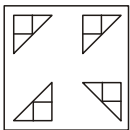


Answer figures / उत्तर आकृतियाँ:

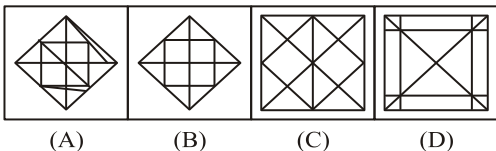


Directions (Q. 2-3): Which answer figure includes all the components given in the question figure?
निर्देश (प्र. 2-3): प्रश्न आकृति में अलग-अलग दिए गए अवयवों से मिलकर कौन-सी उत्तर आकृति बनती है?

2. **Question figures / प्रश्न आकृतियाँ:**



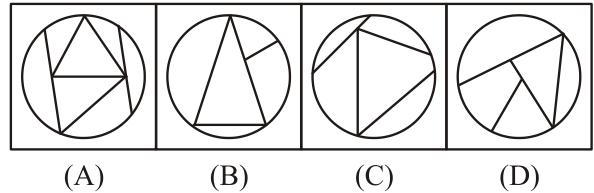
Answer figures / उत्तर आकृतियाँ:



3. **Question figures / प्रश्न आकृतियाँ:**




Answer figures / उत्तर आकृतियाँ:

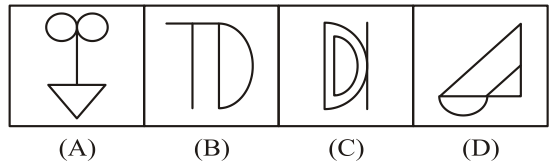


4. Find out which of the answer figure can not make up the question figure?
प्रश्न आकृति में दिए गए अवयवों से मिलकर कौन-सी उत्तर आकृति को नहीं बनाया जा सकता है?

Question figures / प्रश्न आकृतियाँ:

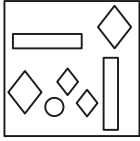


Answer figures / उत्तर आकृतियाँ:




5. Which answer figure includes all the components given in the question figure?
प्रश्न आकृति में अलग-अलग दिए गए अवयवों से मिलकर कौन-सी उत्तर आकृति बनती है?

Question figures / प्रश्न आकृतियाँ:




Answer figures / उत्तर आकृतियाँ:



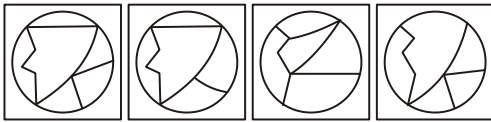
(A) (B) (C) (D)

6. Which answer figure includes all the components given in the question figure?
प्रश्न आकृति में अलग-अलग दिए गए अवयवों से मिलकर कौन-सी उत्तर आकृति बनती है?

Question figures / प्रश्न आकृतियाँ:



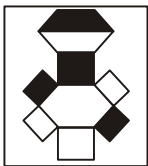
Answer figures / उत्तर आकृतियाँ:



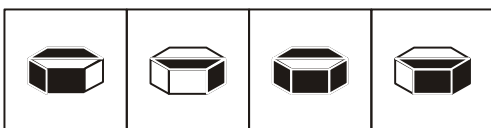
(A) (B) (C) (D)

7. From the following four boxes, which figure has been used to form the question figure?
नीचे दिए गए चार बॉक्स में से कौन-सा एक प्रश्न आकृति में दी गई डिजाइन को मोड़कर बनाया गई है?

Question figures / प्रश्न आकृतियाँ:



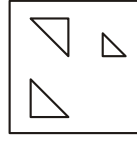
Answer figures / उत्तर आकृतियाँ:



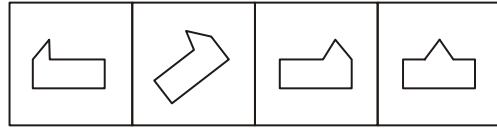
(A) (B) (C) (D)

8. Which answer figure includes all the components given in the question figure?
प्रश्न आकृति में अलग-अलग दिए गए अवयवों से मिलकर कौन-सी उत्तर आकृति बनती है?

Question figures / प्रश्न आकृतियाँ:



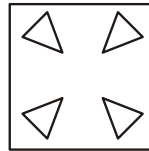
Answer figures / उत्तर आकृतियाँ:



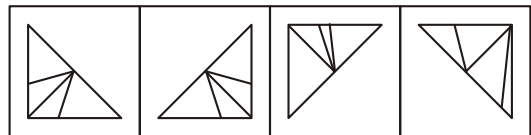
(A) (B) (C) (D)

9. Which answer figure includes all the components given in the question figure?
प्रश्न आकृति में अलग-अलग दिए गए अवयवों से मिलकर कौन-सी उत्तर आकृति बनती है?

Question figures / प्रश्न आकृतियाँ:




Answer figures / उत्तर आकृतियाँ:



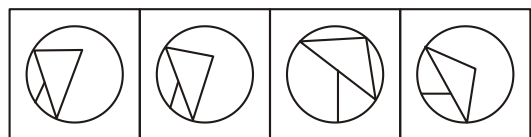
(A) (B) (C) (D)

10. Which answer figure includes all the components given in the question figure?
प्रश्न आकृति में अलग-अलग दिए गए अवयवों से मिलकर कौन-सी उत्तर आकृति बनती है?

Question figures / प्रश्न आकृतियाँ:



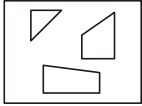
Answer figures / उत्तर आकृतियाँ:



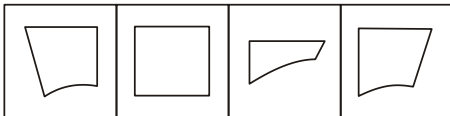
(A) (B) (C) (D)

11. Which answer figure includes all the componests given in the question figure?
प्रश्न आकृति में अलग-अलग दिए गए अवयवों से मिलकर कौन-सी उत्तर आकृति बनती है?

Question figures / प्रश्न आकृतियाँ:



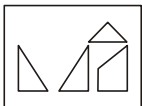
Answer figures / उत्तर आकृतियाँ:



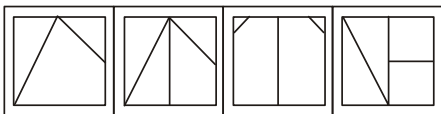
(A) (B) (C) (D)

12. Which answer figure includes all the componests given in the question figure?
प्रश्न आकृति में अलग-अलग दिए गए अवयवों से मिलकर कौन-सी उत्तर आकृति बनती है?

Question figures / प्रश्न आकृतियाँ:



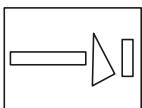
Answer figures / उत्तर आकृतियाँ:



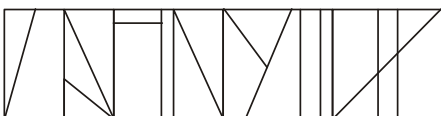
(A) (B) (C) (D)

13. Which answer figure includes all the componests given in the question figure?
प्रश्न आकृति में अलग-अलग दिए गए अवयवों से मिलकर कौन-सी उत्तर आकृति बनती है?

Question figures / प्रश्न आकृतियाँ:



Answer figures / उत्तर आकृतियाँ:

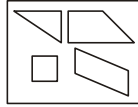


(A) (B) (C) (D)

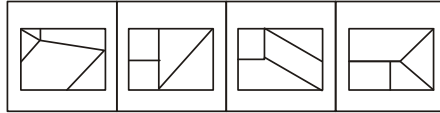
14. Which answer figure includes all the componests given in the question figure?
प्रश्न आकृति में अलग-अलग दिए गए अवयवों से मिलकर

कौन-सी उत्तर आकृति बनती है?

Question figures / प्रश्न आकृतियाँ:




Answer figures / उत्तर आकृतियाँ:



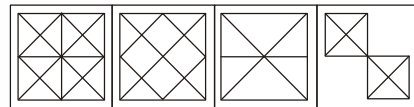
(A) (B) (C) (D)

15. Which answer figure includes all the componests given in the question figure?
प्रश्न आकृति में अलग-अलग दिए गए अवयवों से मिलकर कौन-सी उत्तर आकृति बनती है?

Question figures / प्रश्न आकृतियाँ:




Answer figures / उत्तर आकृतियाँ:



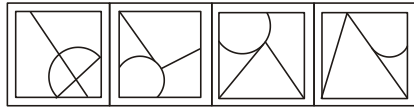
(A) (B) (C) (D)

16. Which answer figure includes all the componests given in the question figure?
प्रश्न आकृति में अलग-अलग दिए गए अवयवों से मिलकर कौन-सी उत्तर आकृति बनती है?

Question figures / प्रश्न आकृतियाँ:



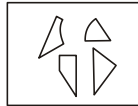
Answer figures / उत्तर आकृतियाँ:



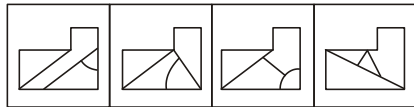
(A) (B) (C) (D)

17. Which answer figure includes all the componests given in the question figure?
प्रश्न आकृति में अलग-अलग दिए गए अवयवों से मिलकर कौन-सी उत्तर आकृति बनती है?

Question figures / प्रश्न आकृतियाँ:




Answer figures / उत्तर आकृतियाँ:



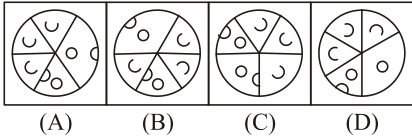
(A) (B) (C) (D)

18. Which answer figure includes all the components given in the question figure?
प्रश्न आकृति में अलग-अलग दिए गए अवयवों से मिलकर कौन-सी उत्तर आकृति बनती है?

Question figures / प्रश्न आकृतियाँ:




Answer figures / उत्तर आकृतियाँ:



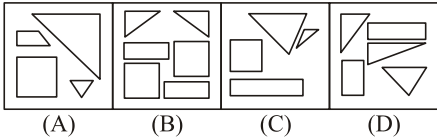
Directions (19–25): Select the appropriate answer figure form which the question figure is formed.

निर्देश (19–25): कौन-सी उत्तर आकृति प्रश्न में दी गई आकृति को सही-सही बना सकती है?


19. **Question figures / प्रश्न आकृतियाँ:**



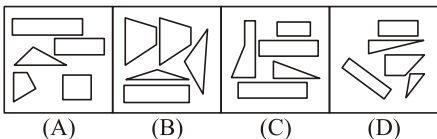
Answer figures / उत्तर आकृतियाँ:




20. **Question figures / प्रश्न आकृतियाँ:**



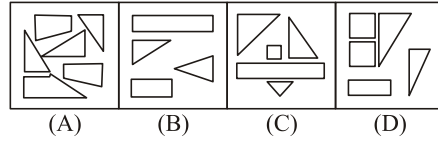
Answer figures / उत्तर आकृतियाँ:



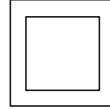
21. **Question figures / प्रश्न आकृतियाँ:**



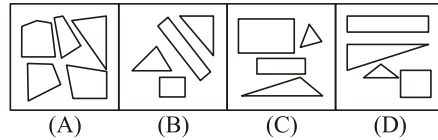
Answer figures / उत्तर आकृतियाँ:



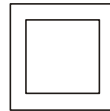
22. **Question figures / प्रश्न आकृतियाँ:**



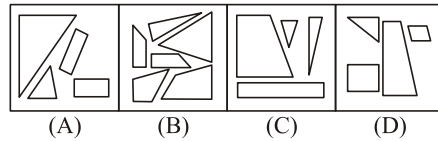
Answer figures / उत्तर आकृतियाँ:



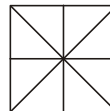
23. **Question figures / प्रश्न आकृतियाँ:**



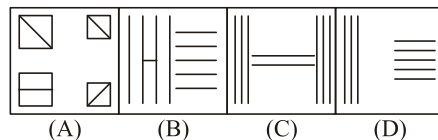
Answer figures / उत्तर आकृतियाँ:



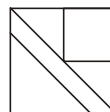
24. **Question figures / प्रश्न आकृतियाँ:**



Answer figures / उत्तर आकृतियाँ:



25. **Question figures / प्रश्न आकृतियाँ:**



Answer figures / उत्तर आकृतियाँ:

