

3

Series Test | श्रृंखला परीक्षण

In this type of questions, a series of words is given. It is advisable to choose one of the sets from the given options. You are expected to understand the textures of various figures. These type of questions have a set of four or five problems, followed by a set of four answer figures. The question figures are in a fixed order and you have to choose the figure which will come next in the set of figures.

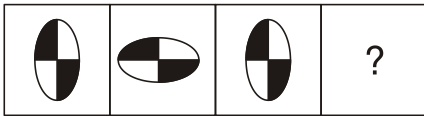
इस प्रकार के प्रश्नों में एक आकृतियों की श्रेणी दी जाती है। जैसे-समस्या आकृति और विद्यार्थी को दी हुई उत्तर आकृतियों के सेट में से एक आकृति चुनने की सलाह दी जाती है। आपसे विभिन्न आकृतियों की बनावटों और लोपों को भली-भाँति समझ लेने की आशा की जाती है। श्रेणी पर इस प्रकार की समस्या चार-पाँच समस्याओं के सेट को शामिल करती है, जिसके बाद चार उत्तर आकृतियों का सेट दिया जाता है। चार-पाँच समस्या आकृतियाँ एक निश्चित क्रम से होती हैं और आपको उत्तर आकृतियों के सेट में से सही आकृति का चुनाव करना होता है, जो उस आकृतियों के सेट की अगली आकृति होती है।

EXERCISE

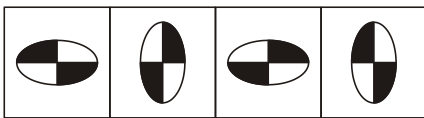
Directions (Q. 1-4): In each of the following questions, a series is given with one term missing. Choose the correct alternative from the given ones that will complete the series.

निर्देश (प्र. 1-4): एक आकृति श्रेणी दी गई है, जिनमें से एक अन्तिम गायब हो रही है। बताइए नीचे दी हुई जवाब आकृतियों में से कौन-सी एक इसको पूरा करेगी।

1. **Question figures / प्रश्न आकृतियाँ:**

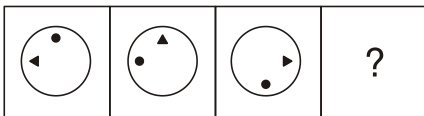


Answer figures / उत्तर आकृतियाँ:

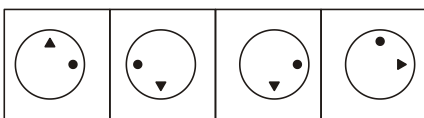


(A) (B) (C) (D)

2. **Question figures / प्रश्न आकृतियाँ:**



Answer figures / उत्तर आकृतियाँ:

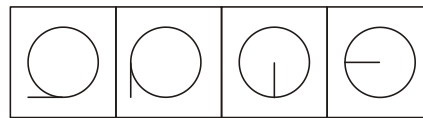


(A) (B) (C) (D)

3. **Question figures / प्रश्न आकृतियाँ:**



Answer figures / उत्तर आकृतियाँ:



(A) (B) (C) (D)

4. **Question figures / प्रश्न आकृतियाँ:**



Answer figures / उत्तर आकृतियाँ:

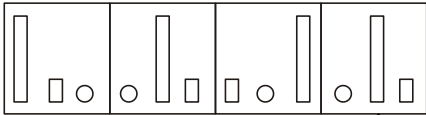


(A) (B) (C) (D)

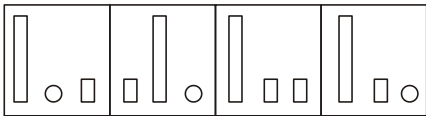
Directions (Q. 5–25): Each of the following questions consists of unmarked figures followed by four figures marked (A), (B), (C) and (D). Select a figure from the marked figures which will continue the series established by the unmarked figures.

निर्देश (प्र. 5–25) : दिए गए प्रत्येक प्रश्न में पांच अक्रमांकित आकृति दी गई है साथ ही चार क्रमांकित उत्तरशृंखला दी गई है जिनके क्रमांक क्रमशः (A), (B), (C) और (D) हैं। क्रमांकित आकृतियों में से उस आकृति का चयन करें जो अक्रमांकितशृंखला को जारी रखेगी।

5. **Question figures / प्रश्न आकृतियाँ:**

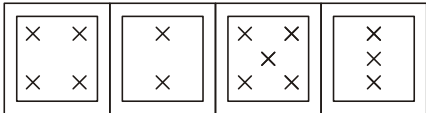


Answer figures / उत्तर आकृतियाँ:

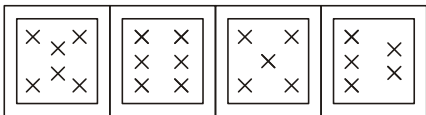


(A) (B) (C) (D)

6. **Question figures / प्रश्न आकृतियाँ:**

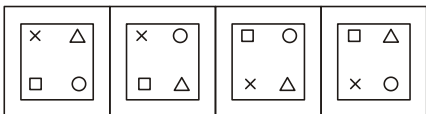


Answer figures / उत्तर आकृतियाँ:

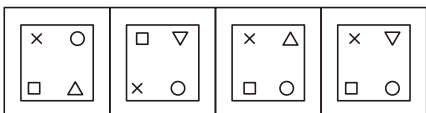


(A) (B) (C) (D)

7. **Question figures / प्रश्न आकृतियाँ:**

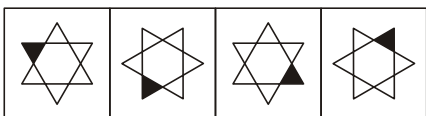


Answer figures / उत्तर आकृतियाँ:

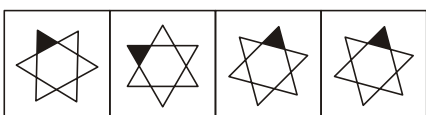


(A) (B) (C) (D)

8. **Question figures / प्रश्न आकृतियाँ:**

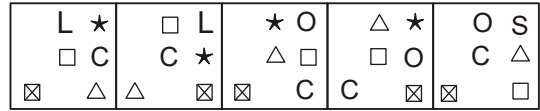


Answer figures / उत्तर आकृतियाँ:

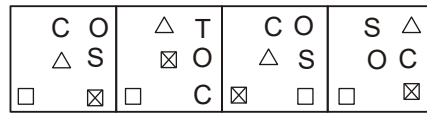


(A) (B) (C) (D)

9. **Question figures / प्रश्न आकृतियाँ:**

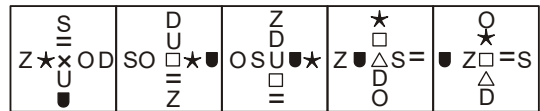


Answer figures / उत्तर आकृतियाँ:

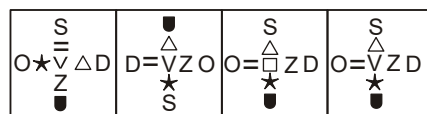


(A) (B) (C) (D)

10. **Question figures / प्रश्न आकृतियाँ:**

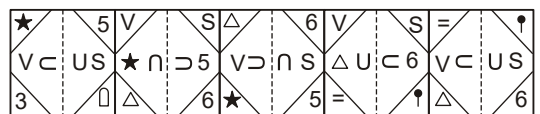


Answer figures / उत्तर आकृतियाँ:

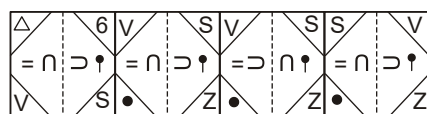


(A) (B) (C) (D)

11. **Question figures / प्रश्न आकृतियाँ:**



Answer figures / उत्तर आकृतियाँ:



(A) (B) (C) (D)

12. **Question figures / प्रश्न आकृतियाँ:**

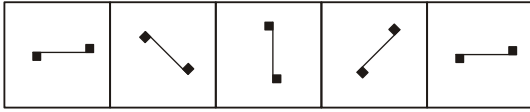


Answer figures / उत्तर आकृतियाँ:

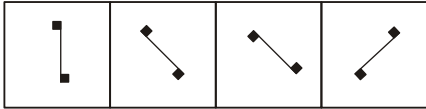


(A) (B) (C) (D)

13. **Question figures / प्रश्न आकृतियाँ:**

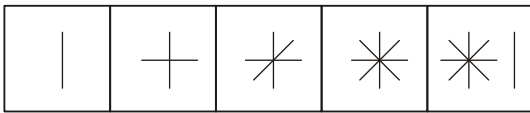


Answer figures / उत्तर आकृतियाँ:

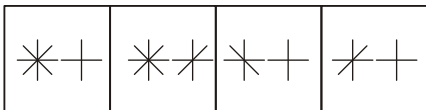


(A) (B) (C) (D)

14. **Question figures / प्रश्न आकृतियाँ:**

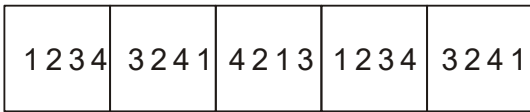


Answer figures / उत्तर आकृतियाँ:

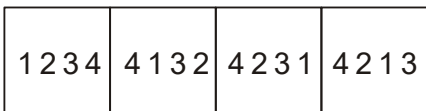


(A) (B) (C) (D)

15. **Question figures / प्रश्न आकृतियाँ:**

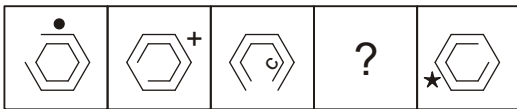


Answer figures / उत्तर आकृतियाँ:

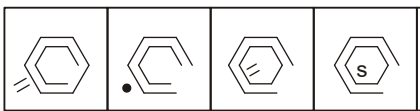


(A) (B) (C) (D)

16. **Question figures / प्रश्न आकृतियाँ:**

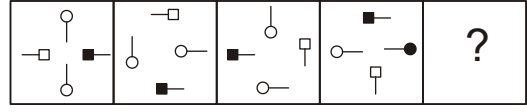


Answer figures / उत्तर आकृतियाँ:

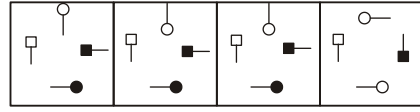


(A) (B) (C) (D)

17. **Question figures / प्रश्न आकृतियाँ:**

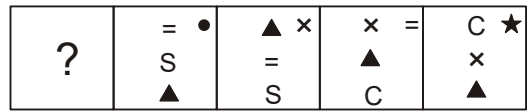


Answer figures / उत्तर आकृतियाँ:

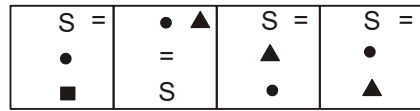


(A) (B) (C) (D)

18. **Question figures / प्रश्न आकृतियाँ:**

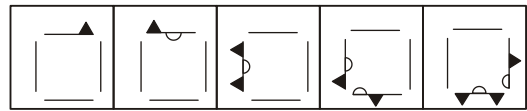


Answer figures / उत्तर आकृतियाँ:

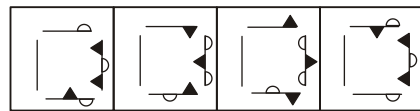


(A) (B) (C) (D)

19. **Question figures / प्रश्न आकृतियाँ:**

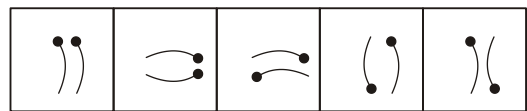


Answer figures / उत्तर आकृतियाँ:

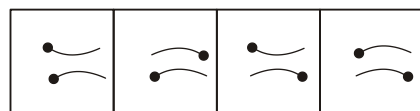


(A) (B) (C) (D)

20. **Question figures / प्रश्न आकृतियाँ:**



Answer figures / उत्तर आकृतियाँ:



(A) (B) (C) (D)