

Classification | वर्गीकरण

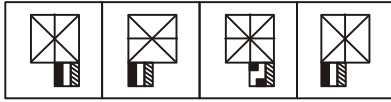

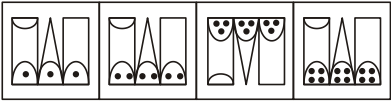
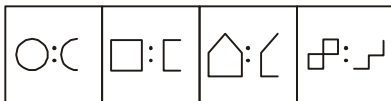
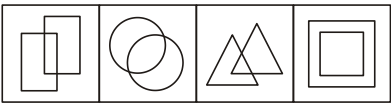
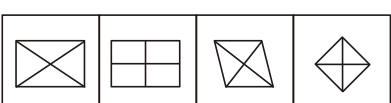

In this chapter of classification, we sort the subject. In these type of problems, we are given a group of figures that have the same properties in all but one. We have to choose the figure which shows different properties than the figures given in the group.

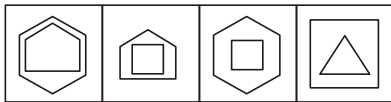
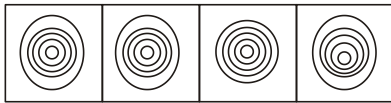
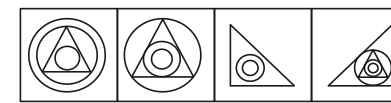
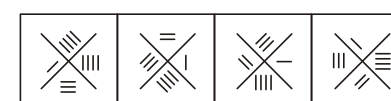
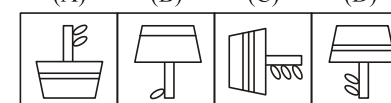
वर्गीकरण के इस अध्याय में हम विषय को छाँटते हैं, इस प्रकार की समस्याओं में, हमें आकृतियों का एक समूह दिया गया होता है जिसमें कि एक के अतिरिक्त अन्य सभी में समान गुण हैं हमें उन आकृति को चुनना है, जो दिए गए समूह में अन्य से भिन्न गुण प्रदर्शित करती हैं।

EXERCISE

Directions (Q. 1-12): Out of the given four figures, three are same on the basis of one property and one is different in all respects. Select this different asset.

निर्देश (प्र. 1-25): निम्नलिखित प्रत्येक प्रश्न में दी गई चार आकृतियों में से तीन किसी एक गुण के आधार पर समान हैं तथा एक सर्वप्रकार भिन्न है। इस भिन्न आकृति का चयन कीजिए।

1. 
(A) (B) (C) (D)
2. 
(A) (B) (C) (D)
3. 
(A) (B) (C) (D)
4. 
(A) (B) (C) (D)
5. 
(A) (B) (C) (D)
6. 
(A) (B) (C) (D)
7. 
(A) (B) (C) (D)

8. 
(A) (B) (C) (D)
9. 
(A) (B) (C) (D)
10. 
(A) (B) (C) (D)
11. 
(A) (B) (C) (D)
12. 
(A) (B) (C) (D)